


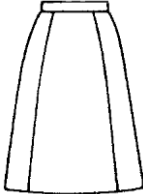
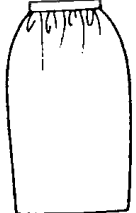

113 年度 04800 女裝丙級技術士技能檢定學科測試試題

本試卷有選擇題 80 題，每題 1.25 分，皆為單選選擇題，測試時間為 100 分鐘，請在答案卡上作答，答錯不倒扣；未作答者，不予計分。

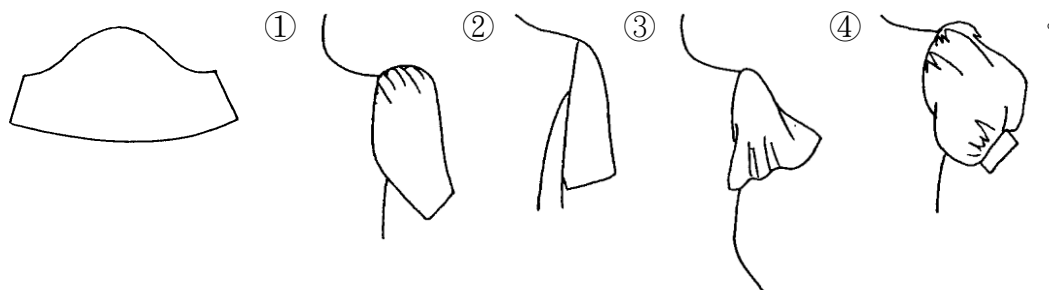
准考證號碼：





姓 名：

單選題：

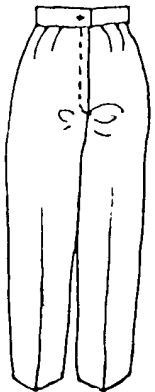
1. (1) 工業製衣的目標在於：①提高產量 ②精密縫製 ③工作安全 ④手工縫製。
2. (3) 利用經緯紗的變化，織出花紋的布料稱為：①燈心絨 ②印花布 ③提花料 ④泡泡紗。
3. (1) 為保持毛呢料的柔軟感，燙墊應選：①稍柔軟的 ②用絲絨燙墊 ③很柔軟的 ④較硬的。
4. (1) 繪製下列裙型時，哪一件不需要臀圍尺寸？①  ②  ③  ④ 

5. (3) 下列有關貪腐的敘述何者錯誤？①貪腐會破壞民主體制及價值觀 ②貪腐會破壞倫理道德與正義 ③貪腐有助降低企業的經營成本 ④貪腐會危害永續發展和法治。
6. (3) 整燙毛料時最理想的方法是：①乾燙 ②磨燙 ③蒸氣燙 ④拖燙。
7. (2) A.H.是指那一部份的尺寸？①臂圍加寬鬆份 ②前後上身紙型的袖襁 ③前後腰圍的尺寸 ④前後上身領圍的尺寸。
8. (4) 處理布邊之鎖邊車通常又稱為：①盲縫車 ②平車 ③鎖眼車 ④拷克車。
9. (3) 下圖是下列哪一件袖子的平面圖？

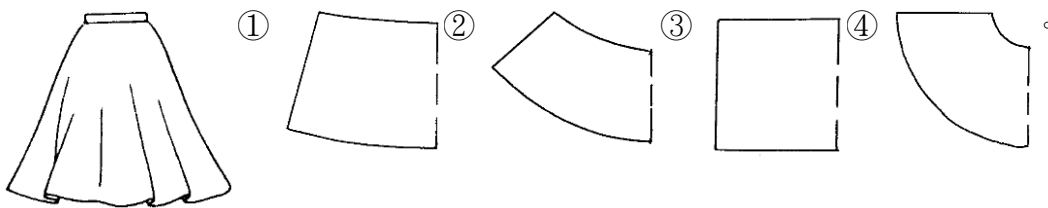


10. (4) 於腰線褶疊，其褶子往下自然散開的活褶裙，稱為：①細褶裙(GATHER SKIRT) ②挺式活褶裙(PLEAT SKIRT) ③波浪裙(FLAIR SKIRT) ④軟式活褶裙(SOFT-PLEAT SKIRT)。
11. (3) 縐綢紗(Silk Crepe)的經緯紗，抽出後常會扭結，因其紗線為：①弱撚紗 ②特殊紗 ③強撚紗 ④伸縮紗。
12. (1) 採用彩度之層次配色如：①由灰色趨向青色 ②由黃色趨向青色 ③由紫色趨向青色 ④由黑色趨向白色。
13. (2) 下列哪一件袖子的袖山最高？①  ②  ③  ④ 


14. (1) 下列對於細懸浮微粒($PM_{2.5}$)之敘述何者正確：A.空氣品質測站中自動監測儀所測得之數值若高於空氣品質標準，即判定為不符合空氣品質標準；B.濃度監測之標準方法為中央主管機關公告之手動檢測方法；C.空氣品質標準之年平均值為 $15 \mu g/m^3$ ？ ①僅 BC ②僅 AC ③ABC 皆正確 ④僅 AB。
15. (2) 1 英尺為： ①15 英寸 ②12 英寸 ③9 英寸 ④5 英寸。
16. (2) 棉毛布料常用於製作嬰幼兒服，是因其： ①組織細密 ②吸濕性良好 ③價格便宜 ④美觀大方。
17. (2) 購買胸罩時，除了需有胸圍尺寸外，還需有： ①胸寬尺寸 ②下胸圍 ③上胸圍 ④腰圍。
18. (1) 燙墊太軟又厚時，熨燙會： ①有熨斗痕 ②起皺 ③很好燙 ④發亮。
19. (3) 下列何行為不是土壤及地下水污染整治法所指污染行為人之作為？ ①洩漏或棄置污染物 ②仲介或容許洩漏、棄置、非法排放或灌注污染物 ③依法令規定清理污染物 ④非法排放或灌注污染物。
20. (1) 以針織法(KNITTING)織成的織品，稱為： ①針織物 ②非織物 ③梭織物 ④薄膜布。
21. (2) 中國傳統服裝的袖型，是屬於： ①變型袖 ②連袖 ③落肩袖 ④接袖。
22. (2) 勞工為節省時間，在未斷電情況下清理機臺，易發生危害為何？ ①墜落 ②捲夾感電 ③缺氧 ④崩塌。
23. (2) 台灣自來水之水源主要取自 ①綠洲的水 ②河川或水庫的水 ③灌溉渠道的水 ④海洋的水。
24. (3) 下列何者的吸濕性及透氣性良好，最宜於製作汗衫？ ①T/C 料 ②尼龍 ③棉針織 ④聚酯。
25. (3) 衣料穿著在人體上時，必需承受最大伸縮度的部位是： ①胸部 ②腿部 ③手腳關節處 ④腹部。
26. (1) 亞克力纖維(ACRYLIC)一般是代替 ①羊毛 ②尼龍 ③棉紗 ④蠶絲 之用。
27. (4) H.L.(Hip Line)英文指的是 ①腕圍 ②頭圍 ③領圍 ④臀圍線。
28. (2) 穿上長褲時，如下圖褲襠下方產生緊而牽吊縐紋是因 ①臀圍過鬆 ②前褲襠厚度過少 ③褲襠厚度過大 ④臀圍過緊。



29. (2) 下列何種配色不屬於補色對比？ ①黃色與紫色 ②黑色與紅色 ③紅色與綠色 ④藍色與橙色。
30. (2) 漩渦形的線，具有 ①平衡性 ②向心的動感 ③穩定性 ④安靜性。
31. (1) 有關建築之外殼節能設計，下列敘述中錯誤的是？ ①宜採用全面玻璃造型設計，以利自然採光 ②開窗區域設置遮陽設備 ③大開窗面避免設置於東西日曬方位 ④做好屋頂隔熱設施。
32. (4) 下列哪一個圖形是下圖裙型的平面圖？

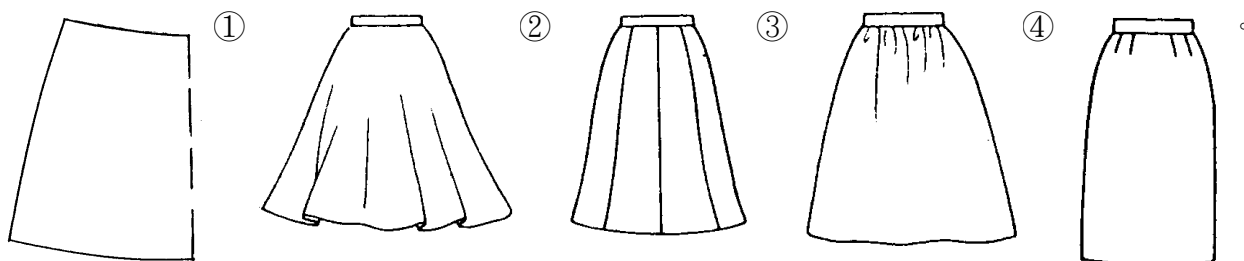


33. (3) 配合下圖袖型選擇正確的平面圖(袖口有翻出裝飾帶的袖子)



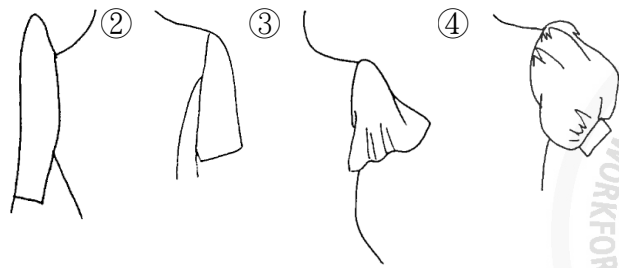
34. (3) 裁剪前須經過排版的原因？ ①多留縫份 ②省縫份 ③省布又正確 ④費布。

35. (1) 從事專業性工作，在服務顧客時應有的態度為何？ ①選擇最安全、經濟及有效的方法完成工作 ②為了降低成本，可以降低安全標準 ③選擇工時較長、獲利較多的方法服務客戶 ④不必顧及雇主和顧客的立場。
36. (2) 完成衣片裁剪工作後，衣片運送至車縫間最簡便的方式宜採用 ①推車式 ②捆包式 ③懸吊式 ④履帶傳送式。
37. (2) ①達克龍(Dacron) ②奧龍(Orlon) ③維尼龍(Vinylon) ④尼龍(Nylon) 是屬於亞克力織品。
38. (2) 根據性別平等工作法，下列何者非屬職場性騷擾？ ①公司員工執行職務時，客戶對其講黃色笑話，該員工感覺被冒犯 ②公司員工下班後搭乘捷運，在捷運上遭到其他乘客偷拍 ③公司員工執行職務時，遭到同事以「女人就是沒大腦」性別歧視用語加以辱罵，該員工感覺其人格尊嚴受損 ④雇主對求職者要求交往，作為僱用與否之交換條件。
39. (2) 參加傍晚至晚餐前之宴會，以社交氣氛為主的服裝稱為： ①晚禮服(EVENING DRESS) ②雞尾酒會裝(COCKTAIL DRESS) ③宴會裝(PARTY DRESS) ④晚餐裝(DINNER DRESS)。
40. (3) 肩胛骨突出體型其原型的補正法應為： ①減少肩褶量 ②增加背寬 ③增加肩褶與肩寬的份量 ④增加背長的長度。
41. (4) 假縫的正確縫法，應採用： ①車縫 ②拷克縫 ③交叉縫 ④手縫。
42. (2) 同樣是平紋織的布料以： ①尼龍 ②螺縐 ③聚酯布 ④絲 的縮水率最大。
43. (3) 包肩體型的肩寬是： ①太斜 ②前肩寬大，後肩寬小 ③後肩寬大，前肩寬小 ④前後肩寬一樣寬。
44. (3) 為解決環境保護與經濟發展的衝突與矛盾，1992年聯合國環境發展大會（UN Conference on Environment and Development, UNCED）制定通過： ①日內瓦公約 ②蒙特婁公約 ③21世紀議程 ④京都議定書。
45. (1) 紅、橙、黃等顏色是屬於： ①暖色系 ②中庸色系 ③寒色系 ④亮色系。
46. (3) 裁剪時，應 ①對齊裁剪邊 ②對齊布邊 ③先查看布料有無瑕疵 ④直接排上紙型。
47. (3) 淺紫色襯衫與下列何種顏色的裙子配在一起較易顯現柔和感？ ①咖啡色 ②黃綠色 ③灰藍紫色 ④鮮紅色。
48. (1) 一般服裝業樣品紙型與工業用紙型之誤差需由誰負責？ ①打版師 ②女裝師 ③設計師 ④裁剪師。
49. (4) 日間參加朋友的畢業典禮或茶會時所穿的服裝稱為： ①休閒服 ②運動服 ③晚宴服 ④訪問服。
50. (2) 有效而正確的節能從選購產品開始，就一般而言，下列的因素中，何者是選購電氣設備的最優先考量項目？ ①採購價格比較，便宜優先 ②安全第一，一定要通過安規檢驗合格 ③用電量消耗電功率是多少瓦攸關電費支出，用電量小的優先 ④名人或演藝明星推薦，應該口碑較好。
51. (2) 下列何者非屬電氣災害類型？ ①電弧灼傷 ②雷電閃爍 ③靜電危害 ④電氣火災。
52. (1) 排版時，對好布邊的文字，經緯紗即會成 ①90度 ②135度 ③180度 ④45度。
53. (3) 試穿前，假縫是以： ①半回針縫 ②回針縫 ③平針縫 ④斜針縫。
54. (1) 1998年時裝設計師三宅一生之「縐褶」系列(PLEATS PLEASE)，其全球媒體之廣告主角為 ①酷斯拉 ②凱第貓 ③米老鼠 ④小丸子。
55. (4) 製作湘香雲紗質料時，所使用手縫針之號碼為 ①8 ②6 ③7 ④9。
56. (3) 下圖為下列何種裙型之平面圖？



57. (3) 正式基本型西褲褲管口的縫份可留： ①12公分 ②3~4公分 ③6~8公分 ④2~3公分。
58. (1) 1990年代以「內衣外穿」帶動服裝流行風潮之法國設計師為 ①高提耶(Jean Paul Gaultier) ②凱薩林赫姆雷特(Katharine Hamnett) ③香奈爾(Chanel) ④迪奧(Christain Dior)。

59. (3) 下列哪一件袖子的袖口最大？ ①



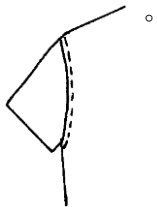
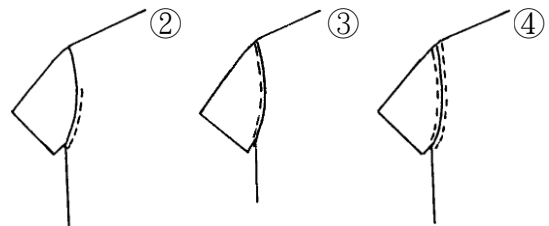
60. (1) 在服裝上，採用色彩反覆持續的表現，會產生： ①律動感 ②穩定感 ③漸層性 ④平衡感。

61. (3) 看完設計圖之後，最先做的紙型稱為 ①樣本第三紙型 ②樣本第二紙型 ③樣本第一紙型 ④工業紙型。

62. (4) 郊遊、旅行時穿的服裝稱為： ①海灘裝(BEACH WEAR) ②運動服(SPORT WEAR) ③外出服(CITY WEAR) ④休閒服(LEISURE WEAR)。

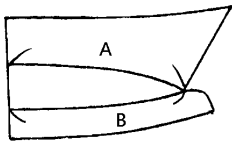
63. (2) 提花布是： ①蠟染布料 ②織出花紋的布料 ③印出花紋的布料 ④絞染布料。

64. (4) 一般襯衫袖壓裝飾線，在下列圖形中何者最常見？ ①



65. (4) 下列何者不會減少溫室氣體的排放？ ①開發太陽能、水能等新能源 ②大量植樹造林，禁止亂砍亂伐 ③減少使用煤、石油等化石燃料 ④增高燃煤氣體排放的煙囪。

66. (3) 以棉布製作有領台襯衫領應考慮縫製時布料厚度，故其版型如下圖中應 ①A 比 B 短 1-2 公分 ②A 與 B 等長 ③A 比 B 短 0.1-0.3 公分 ④A 比 B 長 0.1-0.3 公分。



67. (3) 已在職之勞工，首次從事特別危害健康作業，應實施下列何種檢查？ ①一般體格檢查 ②一般體格檢查及特殊健康檢查 ③特殊體格檢查 ④特殊健康檢查。

68. (3) 下列何種熱水器所需能源費用最少？ ①電熱水器 ②柴油鍋爐熱水器 ③熱泵熱水器 ④天然瓦斯熱水器。

69. (1) 下列何者是屬於再生蛋白質纖維的商品名？ ①Chinon ②Junlon ③Arnel ④Sulfar。

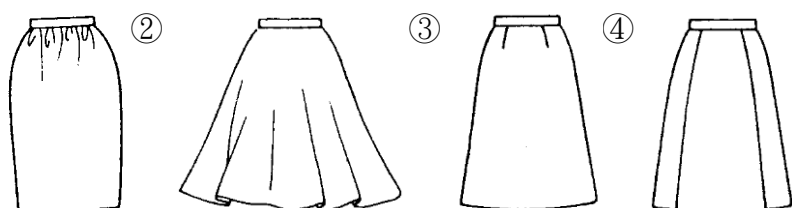
70. (2) 1 英尺為： ①15 公分 ②30 公分 ③25.4 公分 ④20 公分。

71. (2) 雇主要求確實管制人員不得進入吊舉物下方，可避免下列何種災害發生？ ①缺氧 ②物體飛落 ③感電 ④墜落。

72. (3) 與公務機關有業務往來構成職務利害關係者，下列敘述何者「正確」？ ①與公務機關承辦人飲宴應酬為增進基本關係的必要方法 ②機關公務員藉子女婚宴廣邀業務往來廠商之行為，並無不妥 ③將餽贈之財物請公務員父母代轉，該公務員亦已違反規定 ④高級茶葉低價售予有利害關係之承辦公務員，有賈購行為就不算違反法規。

73. (4)  這是表示： ①不能熨燙 ②低溫熨燙 ③高溫熨燙 ④中溫熨燙。

74. (1) 下列裙型當中哪一件的下襬寬最小？ ①



75. (1) 上衣腰線的燙拔，主要是為 ①適合腰部的弧度 ②增加布料彈性 ③改變腰部的形狀 ④與腰部線條無關。
76. (1) 嫋縈是屬於： ①再生纖維 ②合成纖維 ③半合成纖維 ④天然纖維。
77. (4) 透過「一塊布」的設計理念創造出一種新的服裝形式而為西方世界所肯定之日本設計師為 ①高田賢三 ②川久保玲 ③森英惠 ④三宅一生。
78. (3) 尼龍(NYLON)是屬於 ①礦物纖維 ②半合成纖維 ③合成纖維 ④再生纖維。
79. (4) 車縫薄料時，宜採用幾號車縫針？ ①11 號 ②14 號 ③16 號 ④9 號。
80. (1) 服裝設計，可以利用形的大小或線的粗細表現漸層之效果可稱為： ①韻律 ②比例 ③平衡 ④調和。