

113 年度 04800 女裝乙級技術士技能檢定學科測試試題

本試卷有選擇題 80 題【單選選擇題 60 題，每題 1 分；複選選擇題 20 題，每題 2 分】，測試時間為 100 分鐘，請在答案卡上作答，答錯不倒扣；未作答者，不予計分。

准考證號碼：

姓 名：

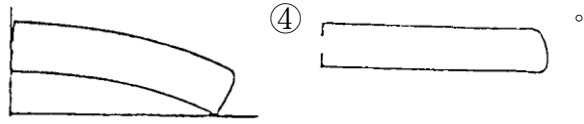
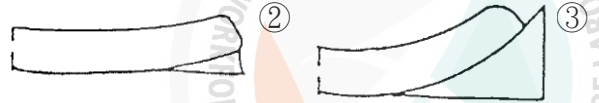
單選題：

1. (1) 蓋式口袋的裏蓋布，何者不宜 ①不織布 ②正斜布 ③橫布 ④直布。
2. (1) 毛巾布、平面絨、燈心絨等，是屬於 ①毛圈與起毛布 ②緞紋布 ③斜紋布 ④針織布。
3. (2) 下列哪一種纖維的斷面呈現近似三角形？ ①棉花 ②蠶絲 ③尼龍 ④羊毛。
4. (3) 織物的三種基本組織中，強度最強者是 ①橫紋 ②斜紋 ③平紋 ④緞紋 組織。
5. (3) 看完設計圖之後，最先做的紙型稱為 ①樣本第三紙型 ②工業紙型 ③樣本第一紙型 ④樣本第二紙型。
6. (2) 通常所謂 A 型罩杯，其胸圍與乳下胸圍尺寸之差約為 ①17 公分 ②10 公分 ③15 公分 ④20 公分。
7. (4) 大多數的吸菸者都嘗試過戒菸，但是很少自己戒菸成功。吸菸的同事要戒菸，怎樣建議他是無效的？ ①鼓勵他撥打戒菸專線 0800-63-63-63，取得相關建議與協助 ②建議他到醫療院所、社區藥局找藥物戒菸 ③建議他參加醫院或衛生所辦理的戒菸班 ④戒菸是自己意願的問題，想戒就可以戒了不用尋求協助。
8. (2) 最直接的服裝流行傳播 ①報紙廣告 ②服裝發表會 ③電視報導 ④雜誌介紹。
9. (3) 成衣企業在縫製工廠要做的工作是 ①設計 ②評估 ③縫製量產 ④銷售。
10. (1) 購買下列哪一種商品對環境比較友善？ ①材質可以回收的商品 ②用過即丟的商品 ③過度包裝的商品 ④一次性的產品。
11. (1) 台灣是屬缺水地區，每人每年實際分配到可利用水量是世界平均值的約多少？ ①1/6 ②1/2 ③1/5 ④1/4。
12. (2) 下列何者是以反諷幽默之風格，聞名於世，人稱之為幽默顛覆大師？ ①芬迪(Fendi) ②馬斯奇諾(Moschino) ③迪奧(Christain Dior) ④拉克華(Christian Lacroix)。
13. (2) 以下哪種纖維燃燒時，有燒紙的味道？ ①聚酯纖維 ②嫻縈 ③醋酸纖維 ④亞克力纖維。
14. (2) 屈身體型特徵是 ①前身長較長 ②背寬較大 ③胸寬較寬 ④前身長與背長之差較大。
15. (4) 為控制工場之生產程序、工資及防止訂單、尺碼、顏色之混亂錯誤，在裁剪工程過程之中宜於裁片加上 ①本票 ②傳票 ③支票 ④工票 以方便管理。
16. (1) 泳裝所用的衣料，一般多採用 ①尼龍與彈性纖維 ②麻 ③棉 ④羊毛。
17. (1) 具有凹凸紋路的織物是 ①縮緬(Chirimen) ②塔芙塔(Taffeta) ③平織棉布 ④山東綢。
18. (1) 聚酯布常用 ①分散性染料 ②直接染料 ③酸性染料 ④反應性染料 染色。
19. (1) 布面經紗相互間出現規則稀密條紋者稱為 ①窠痕 ②密路 ③蛛網 ④跳紗。
20. (4) 布料沾上機油或油污，必須用 ①漂白水 ②肥皂 ③洗衣粉 ④去漬油 清洗才能去掉污垢。
21. (4) 紅色的物體投射綠色光，會變成 ①紫色 ②黑色 ③大紅色 ④茶褐色。
22. (3) 目前菸害防制法規範，「不可販賣菸品」給幾歲以下的人？ ①19 ②17 ③20 ④18。
23. (4) 針織物針法類型中，以跳行方式達到特殊效果稱之為 ①反面針法 ②正面針法 ③掛針針法 ④空針針法。
24. (1) 一般家庭垃圾在進行衛生掩埋後，會經由細菌的分解而產生甲烷氣，請問甲烷氣對大氣危機中哪一些效應具有影響力？ ①溫室效應 ②臭氧層破壞 ③煙霧 (smog) 效應 ④酸雨。
25. (3) 通常仿桃皮布是由 ①翻皮布 ②不織物 ③超細纖維布 ④薄膜布 經起毛加工製作而成。
26. (3) 一般成衣加上肩墊的目的是： ①耐磨耐穿 ②增加牢度 ③配合設計線條 ④保護肩部。
27. (1) 使用牽條的目的在於： ①防止拉伸 ②增加挺度 ③增加厚度 ④耐磨。
28. (3) 吸氣燙臺之吸氣動作該在何時進行效果較佳？ ①可隨時吸氣 ②熨斗蒸汽未出來時 ③熨斗蒸汽整燙時 ④熨燙及吸氣同時進行。

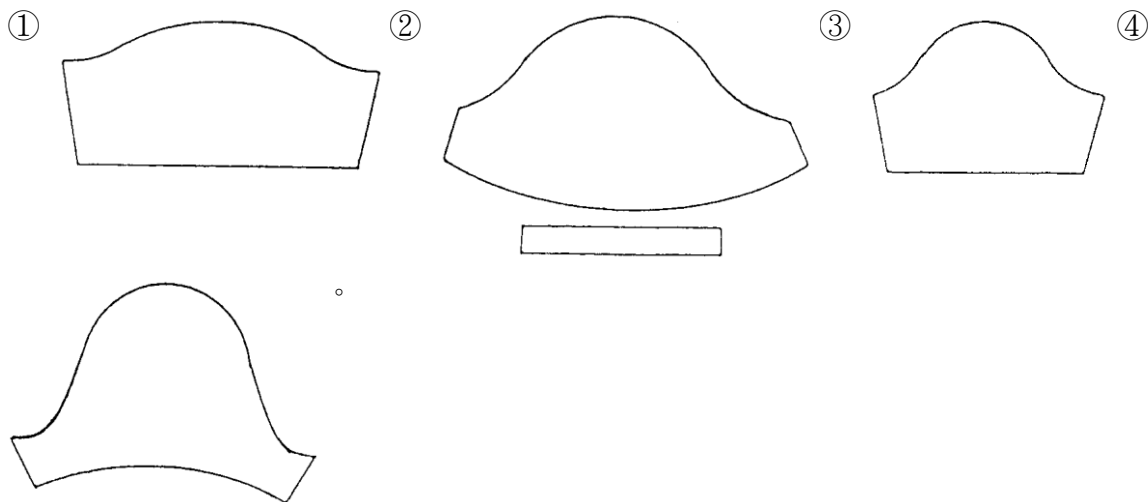
29. (4) 嫻縐的標準回潮率(吸濕性)是 ①11% ②9% ③14% ④13%。
30. (3) 質輕而柔且能保溫、纖維表面平滑細緻強韌而富有彈性，可作冬、夏衣料的纖維是：①尼龍 ②羊毛 ③蠶絲 ④棉。
31. (1) 下列何種防護具較能消滅噪音對聽力的危害？①耳罩 ②碎布球 ③棉花球 ④耳塞。
32. (2) 訂製套裝在假縫試穿後，才裁剪的裁片為 ①前片 ②裏領 ③後片 ④袖片。
33. (1) 下列何者非為事業單位勞動場所發生職業災害者，雇主應於 8 小時內通報勞動檢查機構？①勞工受傷無須住院治療 ②發生災害之罹災人數在 1 人以上，且需住院治療 ③發生災害之罹災人數在 3 人以上 ④發生死亡災害。
34. (1) 電動平車車針、其英文代號為 ①DBx1 ②HAX1 ③KWx1 ④DHx1。
35. (3) 大雄擔任公司部門主管，代表公司向公務機關投標，為使公司順利取得標案，可以向公務機關的採購人員為以下何種行為？①為社交禮俗需要，贈送價值昂貴的名牌手錶作為見面禮 ②為與公務機關間有良好互動，招待至有女陪侍場所飲宴 ③為了解招標文件內容，提出招標文件疑義並請說明 ④為避免報價錯誤，要求提供底價作為參考。
36. (1) 蓮蓬頭出水量過大時，下列對策何者「無法」達到省水？①淋浴時水量開大，無需改變使用方法 ②換裝有省水標章的低流量(5~10L/min)蓮蓬頭 ③洗澡時間盡量縮短，塗抹肥皂時要把蓮蓬頭關起來 ④調整熱水器水量到適中位置。
37. (4) 若以粉紅色的襯衫，深紫色的腰帶，暗紅色裙子之組合，其配色方法稱為 ①同色相配色 ②對比色相配色 ③分離配色 ④類似色相的配色。
38. (2) 佳績布 Jersey 是 ①經編平紋 ②緯編平紋 ③緯編雙反面針織物 ④緯編羅紋。
39. (3) 勞工為節省時間，在未斷電情況下清理機臺，易發生危害為何？①缺氧 ②墜落 ③捲夾感電 ④崩塌。
40. (1) ①毛皮 ②不織布 ③縫線 ④布料 是由非纖維原料所作成。
41. (4) 3 公分之內有 6 個針目是 ①細針目 ②中細針目 ③稍細針目 ④粗針目。
42. (3) 緞子、絲絨、織錦緞等是屬於 ①涼爽感 ②輕柔感 ③華麗感 ④粗獷感 的布料。
43. (1) 有關省水馬桶的使用方式與觀念認知，下列何者是錯誤的？①省水馬桶因為水量較小，會有沖不乾淨的問題，所以應該多沖幾次 ②因為馬桶是家裡用水的大宗，所以應該盡量採用省水馬桶來節約用水 ③選用衛浴設備時最好能採用省水標章馬桶 ④如果家裡的馬桶是傳統舊式，可以加裝二段式沖水配件。
44. (3) 下列織物何者做成衣服後較易有勾紗破損的情形？①梳毛織物 ②絨毛紗織物 ③Loop 紗織物 ④Slub 織物。
45. (1) 天然纖維中最細的纖維為 ①蠶絲 ②亞麻 ③羊毛 ④棉。
46. (2) 下列哪一種飲食習慣能減碳抗暖化？①多吃牛肉 ②多吃天然蔬果 ③多選擇吃到飽的餐館 ④多吃速食。
47. (4) 外套穿於身上，袖山兩側產生鬆斜皺紋的補正法 ①增加袖山高 ②減少袖寬 ③增加袖寬 ④減少袖山高。
48. (2) 透過「一塊布」的設計理念創造出一種新的服裝形式而為西方世界所肯定之日本設計師為 ①高田賢三 ②三宅一生 ③森英惠 ④川久保玲。
49. (4) 電氣設備維修時，在關掉電源後，最好停留 1 至 5 分鐘才開始檢修，其主要的理由為下列何者？①讓機器設備降溫下來再查修 ②法規沒有規定，這完全沒有必要 ③先平靜心情，做好準備才動手 ④讓裡面的電容器有時間放電完畢，才安全。
50. (3) 從事廢棄物清除、處理業務者，應向直轄市、縣（市）主管機關或中央主管機關委託之機關取得何種文件後，始得受託清除、處理廢棄物業務？①運輸車輛購買證明 ②運輸車輛駕駛證明 ③公民營廢棄物清除處理機構許可文件 ④公司財務證明。
51. (2) 下列織品中，哪一種不是起毛織物？①天鵝絨 ②軋別丁 ③絲絨 ④駱駝絨。
52. (3) 下列何者用鹼性洗劑洗濯後會變黃？①嫻縐 ②棉布 ③羊毛 ④聚酯。

53. (4) 對於墜落危險之預防設施，下列敘述何者較為妥適？ ①安全帶應確實配掛在低於足下之堅固點 ②高度 2m 以上之邊緣開口部分處應圍起警示帶 ③在外牆施工架等高處作業應盡量使用繫腰式安全帶 ④高度 2m 以上之開口處應設護欄或安全網。

54. (2) 下列立領平面圖，穿著時，何種領子的傾斜度最多？ ①



55. (3) 下列織物何者表面特別平滑光亮，唯耐摩擦力甚弱者為 ①斜紋 ②平紋 ③緞紋 ④羅紋。
56. (4) ①麻 ②棉 ③蠶絲 ④羊毛 的保溫性最好。
57. (1) 服裝的穿著效果講求的是 ①整體的綜合儀態外觀 ②衣服與飾品的色彩美 ③衣服的質料美 ④流行的新鮮感。
58. (4) 下列有關著作權之概念，何者正確？ ①公務機關所函頒之公文，受我國著作權法的保護 ②著作權要待向智慧財產權申請通過後才可主張 ③以傳達事實之新聞報導的語文著作，依然受著作權之保障 ④國外學者之著作，可受我國著作權法的保護。
59. (2) 配合右圖袖型，選擇正確裁剪圖



60. (1) B.P.長是指量前身 ①S.N.P. ②H.P. ③F.N.P. ④S.P. 至 B.P 點的尺寸。

複選題：

61. (14) 下列織物中，何者耐鹼怕酸？ ①棉布 ②毛布 ③蠶絲布 ④麻布。
62. (24) 布料裁片，那些部位不適合打缺口式的牙口記號？ ①後中心 ②羅紋領中心 ③袖山中心 ④羅紋袖口中心。
63. (134) 成衣的放縮比會因為什麼條件不同，而有所差異？ ①不同年齡層客群的身材差異 ②個人喜好的差異 ③國家人種的體型差異 ④衣服樣式的差異。
64. (34) 關於計測各部位的英文，下列哪些為正確？ ①E.L.(Elbow Line)為腰圍 ②W.L.(Waist Line)為臀圍 ③F.N.P.(Front Neck Point)為頸前中心點 ④A.H.(Arm Hole)為袖襠。
65. (14) 下列敘述何者正確？ 1940' S ①杜邦開發出尼龍 ②拉鍊註冊為商標 ③杜邦開發萊卡 ④推出人造合成染料。
66. (123) 一般基本樣式服裝，其胸口貼袋的位置自側頸點下何者不宜？ ①11~12 英吋 ②10~11 英吋 ③4~5 英吋 ④7~8 英吋。

67. (13) 一般 POLO 衫下襠完成車縫寬度為多少？ ①1 英吋 ②2 英吋 ③ $\frac{3}{4}$ 英吋 ④ $2\frac{1}{2}$ 英吋。
68. (12) 下列纖維中，何者遇水後強力會變大？ ①麻 ②棉 ③羊毛 ④嫫縈。
69. (12) 縫製時有關車縫線使用的敘述，下列哪些為正確？ ①捲底線以八分滿為佳 ②線的股數愈多，強力愈高 ③捲底線應以十分滿為最適宜 ④線的股數愈多，強力減弱。
70. (134) 有關材料敘述下列哪些為正確？ ①駱駝絨為高級大衣材料，組織大多為斜紋織 ②棉纖維最不適宜一般工藝印染的纖維織物 ③Tartan Check 指蘇格蘭格子呢 ④軋別丁(Gabardine)質感細密其組織為斜紋組織。
71. (124) 下列哪些為正確？ ①麻纖維遇水，則強韌度變強 ②壓克力與羊毛混紡的織物稱為 A/W 布料 ③壓克力與羊毛混紡的織物稱為 T/R 布料 ④芬多精纖維經輕微磨擦可散發芳香氣味。
72. (134) 利用牙口機剪牙口，其深度下列何者不宜？ ①1~1.5 公分 ②0.3~0.5 公分 ③0.1~0.2 公分 ④0.8~0.9 公分。
73. (234) 不同地區對色彩的解讀亦不相同，下列何者為是？ ①在印度和非洲地區黑色代表純淨 ②在印度和非洲地區白色代表死亡 ③在西方文化中黑色代表死亡 ④在西方文化中白色代表純潔。
74. (234) 排灣族的傳統服飾的敘述，下列哪些為正確？ ①對於圖騰的運用沒有特別的規範 ②一般平民僅能使用「花草」、「幾何紋」 ③「太陽紋」、「全人形紋」、「蛇形紋」只有貴族才能使用 ④嚴格的社會階級制度。
75. (123) 為呈現禮服設計的精緻手工縫綴，常使用的搭配素材元素 ①亮片、珠飾 ②蕾絲、花邊 ③刺繡 ④水洗加工。
76. (12) 以梭織布料裁製衣服時，下列敘述何者正確？ ①袖山高、袖寬小，機能性差活動量小 ②袖山低、袖寬大，機能性好活動量大 ③袖山高、袖寬小，機能性好活動量大 ④袖山低、袖寬大，機能性差活動量小。
77. (124) 第一次世界大戰，對流行的影響，下列何者為是？ ①縮短裙長 ②婦女開始投入職場，對工作服有新的需求 ③束腹被大量使用 ④女裝開始模仿男士西裝線條。
78. (14) 織造混紡織物的原始目的為 ①節省成本 ②便於判斷 ③增加美觀 ④截長補短。
79. (134) 有關車縫針的敘述何者正確？ ①選用視布料的厚度來決定 ②號碼越小針越粗 ③一般使用 9、11、14 號的針 ④牛仔布適用 16 號針。
80. (134) 設計師與打版師必需做哪些溝通？ ①設計細節之可行性 ②服裝訂價 ③新款服裝之縫製方法 ④確定新款服裝之素材。

114 年度 04800 女裝乙級技術士技能檢定學科測試試題

本試卷有選擇題 80 題【單選選擇題 60 題，每題 1 分；複選選擇題 20 題，每題 2 分】，測試時間為 100 分鐘，請在答案卡上作答，答錯不倒扣；未作答者，不予計分。


准考證號碼：

姓 名：

單選題：





1. (3) 在工業製衣使用上，加上縫份的紙型稱為 ①原型紙型 ②第一紙型 ③工業紙型 ④放縮紙型。
2. (2) 透明雨衣是屬於 ①泡沫布 ②薄膜布 ③編織布 ④不織布。
3. (1) 下列何者不屬於局限空間內作業場所應採取之缺氧、中毒等危害預防措施？ ①使用柴油內燃機發電提供照明 ②進入作業許可程序 ③測定氧氣、危險物、有害物濃度 ④實施通風換氣。
4. (3) 以標準體型構造與機能性而言，袖襠應該 ①前袖襠大於後袖襠 ②無特定前、後袖襠何者應較大 ③後袖襠大於前袖襠 ④前袖襠等於後袖襠。
5. (2) 以原組織或其變化組織作為基礎組織，然後調換其排列順序，這種織品的表面呈現紊亂而相當規則之細紋如 ①軋別丁 Gaberdine ②梨面布 Amunzen ③楊柳布 Youyu ④雪紡紗 Chiffon。
6. (3) 何種織物容易起毛毳？ ①純棉織物 ②純毛織物 ③Polyester 與羊毛混紡織物 ④起毛呢。
7. (2) 熨燙時，產生熨斗角的痕跡其原因之一為 ①燙墊太薄 ②燙墊太軟 ③燙墊太厚 ④燙墊太硬。
8. (1) 香奈兒套裝(Chanel Suit)的特徵 ①無領外套式套裝與裙子組合 ②西裝式套裝 ③具有荷葉形裝飾的套裝 ④夾克式套裝。
9. (2) 有關電氣安全，下列敘述何者錯誤？ ①不可以濕手操作電氣開關，且切斷開關應迅速 ②110 伏特之電壓不致造成人員死亡 ③220 伏特為低壓電 ④電氣室應禁止非工作人員進入。
10. (4) 縫合線起縐可能是因 ①針太細 ②線太鬆 ③線太細 ④上下線張力過大。
11. (4) 針織機上針的密度為 ①吃針 ②割數 ③掛針 ④隔距。
12. (3) 西裝下片領，其面布與貼邊的裁線關係為 ①面布與貼邊同 ②無特別規定 ③面布比貼邊小 ④面布比貼邊大。
13. (1) 針織料活動性好，適於 ①四季 ②夏季 ③冬季 ④春季 使用。
14. (3) ①布料 ②縫線 ③毛皮 ④不織布 是由非纖維原料所作成。
15. (1) 室內裝修業者承攬裝修工程，工程中所產生的廢棄物應該如何處理？ ①委託合法清除機構清運 ②河岸邊掩埋 ③交給清潔隊垃圾車 ④倒在偏遠山坡地。
16. (1) 下列何者不會減少溫室氣體的排放？ ①增高燃煤氣體排放的煙囪 ②開發太陽能、水能等新能源 ③減少使用煤、石油等化石燃料 ④大量植樹造林，禁止亂砍亂伐。
17. (4) 以一種顏色為底色，然後再印上塗有消色糊的花紋，這種印花方法稱為 ①防染印花 ②轉移印花 ③直接印花 ④消色印花。
18. (2) 穿上外套時，由袖襠向中心產生斜吊皺紋，而後中心開叉不閉合的原因 ①衣襠過緊 ②平肩 ③背寬過鬆 ④斜肩。
19. (1) 格子織物一般多是屬於 ①先染織物 ②植毛織物 ③後染織物 ④印花織物。
20. (1) 若以粉紅色的襯衫，深紫色的腰帶，暗紅色裙子之組合，其配色方法稱為 ①類似色相的配色 ②同色相配色 ③分離配色 ④對比色相配色。
21. (3) 亞克力與羊毛纖維的混紡多以下列何種簡寫稱之？ ①C/W ②T/W ③A/W ④Y/W。
22. (2) 膚色與衣服顏色不能協調時，可以 ①黃綠或紅紫色 ②無彩色 ③藍色或橙色 ④紅色或綠色 來緩和它們。
23. (1) 在正常操作，且提供相同暖氣之情形下，下列何種暖氣設備之能源效率最高？ ①冷暖氣機 ②電熱風扇 ③電熱輻射機 ④電暖爐。
24. (3) 我國固定污染源空氣污染防制費以何種方式徵收？ ①依營業額徵收 ②按工廠面積徵收 ③依排放污染物之種類及數量徵收 ④隨使用原料徵收。
25. (4) 一般合成纖維理想的熨燙溫度為 ①180~200℃ ②160~180℃ ③200~210℃ ④120~150℃。

26. (3) 有關觸電的處理方式，下列敘述何者錯誤？ ①把電源開關關閉 ②使用絕緣的裝備來移除電源 ③立即將觸電者拉離現場 ④通知救護人員。
27. (4) 下圖表示 ①雙條裝飾線記號 ②合印對記號 ③正斜布紋 ④活褶倒向記號。
- 
28. (1) 外套裡布後中心多留寬份是因 ①增加活動量 ②防止縮水 ③增加厚度 ④增加美觀。
29. (2) 苧麻(Ramie)、亞麻(Linen)、大麻(Hemp)、黃麻(Jute)等，其纖維來自： ①種子 ②莖幹(韌皮) ③根 ④葉子。
30. (4) 下列何者用鹼性洗劑洗濯後會變黃？ ①棉布 ②嫻縈 ③聚酯 ④羊毛。
31. (3) 國際流行色彩委員會，每年在 ①紐約 ②日本 ③巴黎 ④上海 舉行兩次會議，並選定兩年後之流行色彩預測色。
32. (3) 所謂頭身數是 ①頭長÷身高 ②身高÷頭寬 ③身高÷頭長 ④頭寬÷身高 的比較。
33. (4) 蠶絲薄質料的車縫，使用車針是 ①16 號 ②11 號 ③14 號 ④9 號。
34. (1) 合成纖維之裁剪，應以 ①慢速度裁刀裁剪 ②極高速度裁刀裁剪 ③最慢速度裁刀裁剪 ④高速度裁刀裁剪，才能保有良好裁剪品質。
35. (1) 很多運動服，像滑雪裝、高爾夫球裝等，為防止紫外線對人體的傷害，而發展出 ①抗紫外線纖維 ②芳香纖維 ③中空纖維 ④遠紅外線纖維。
36. (4) 下列何者為打破陰柔與陽剛之兩性界線，引領女裝走向中性風格之米蘭時尚設計師？ ①迪奧(Christain Dior) ②費瑞(Gianfranco Ferre) ③拉克華(Christian Lacroix) ④亞曼尼(Giorgio Armani)。
37. (1) 下列哪一種纖維的斷面呈現近似三角形？ ①蠶絲 ②羊毛 ③尼龍 ④棉花。
38. (2) 一位職場新鮮人剛進公司時，良好的工作態度是 ①多打聽哪一個部門比較輕鬆，升遷機會較多 ②多觀察、多學習，了解企業文化和價值觀 ③多遊走各部門認識同事，建立自己的小圈圈 ④多探聽哪一個公司在找人，隨時準備跳槽走人。
39. (2) 錐子可使用於 ①製圖工具 ②推布 ③畫記號線 ④切線。
40. (2) 下列工作場所何者非屬勞動檢查法所定之危險性工作場所？ ①火藥類製造 ②金屬表面處理 ③農藥製造 ④從事石油裂解之石化工業 之工作場所。
41. (3) 下列何種材質可壓出永久性的褶子 ①羊毛 ②嫻縈 ③聚酯 ④醋酸 纖維。
42. (2) 有關智慧財產權行為之敘述，下列何者有誤？ ①以 101 大樓、美麗華百貨公司做為拍攝電影的背景，屬於合理使用的範圍 ②製造、販售仿冒註冊商標的商品雖已侵害商標權，但不屬於公訴罪之範疇 ③原作者自行創作某音樂作品後，即可宣稱擁有該作品之著作權 ④著作權是為促進文化發展為目的，所保護的財產權之一。
43. (2) 蚊帳的組織成為 ①平紋織物 ②絞經織物 ③斜紋織物 ④針織物。
44. (4) 下列何者非屬資源回收分類項目中「廢紙類」的回收物？ ①雜誌 ②紙袋 ③報紙 ④用過的衛生紙。
45. (1) 溜冰或騎馬時所穿著的服裝稱為 ①運動裝(ACTIVE WEAR) ②家居便裝(HOME WEAR) ③旅行裝(TRAVELLING WEAR) ④正式服(FORMAL WEAR)。
46. (3) 下列何者不是菸害防制法之立法目的？ ①保護孕婦免於菸害 ②防制菸害 ③促進菸品的使用 ④保護未成年免於菸害。
47. (3) B.P.長是指量前身 ①S.P. ②F.N.P. ③S.N.P. ④H.P. 至 B.P 點的尺寸。
48. (4) 解決台灣水荒(缺水)問題的無效對策是 ①全面節約用水 ②水資源重複利用，海水淡化…等 ③興建水庫、蓄洪(豐)濟枯 ④積極推動全民體育運動。

49. (1) 達克龍(Dacron)、特多龍(Tetoron)、泰麗苓(Terylene)是屬 ① 聚酯 ② 聚乙烯醇 ③ 聚丙烯腈 ④ 聚醯胺 纖維。
50. (4) 排版時，首要注意 ① 節省縫份 ② 布料經濟 ③ 縫份要多 ④ 布紋正確。
51. (4) 經編織物大都被利用為 ① 手提袋材料 ② 裙子 ③ 裡布 ④ 女用內衣褲。
52. (1) 檢舉人向有偵查權機關或政風機構檢舉貪污瀆職，必須於何時為之始可能給與獎金？ ① 犯罪未發覺前 ② 犯罪未遂前 ③ 預備犯罪前 ④ 犯罪未起訴前。
53. (3) 若求得正確的人體部位尺寸時，可使用下列何種測量工具？ ① 角度器 ② 皮尺 ③ 馬丁式人體計測器 ④ 滑動測量器。
54. (1) 熱傳導性佳及吸濕性高的纖維是 ① 植物性纖維 ② 動物性纖維 ③ 合成纖維 ④ 半合成纖維。
55. (1) 依職業安全衛生設施規則規定，雇主對於物料儲存，為防止氣候變化或自然發火發生危險者，下列何者為最佳之採取措施？ ① 與外界隔離及溫濕控制 ② 密閉 ③ 靜置於倉儲區，避免陽光直射 ④ 保持自然通風。
56. (1)  是 ① 扭乾記號 ② 手洗記號 ③ 脫水記號 ④ 包裝記號。
57. (4) 何種加工會影響布的垂墜性？ ① 防汗加工 ② 潑水加工 ③ 壓光加工 ④ 減量加工。
58. (2) 通常所謂 A 型罩杯，其胸圍與乳下胸圍尺寸之差約為 ① 20 公分 ② 10 公分 ③ 15 公分 ④ 17 公分。
59. (3) 森林面積的減少甚至消失可能導致哪些影響：A. 水資源減少 B. 減緩全球暖化 C. 加劇全球暖化 D. 降低生物多樣性？ ① BCD ② ABD ③ ACD ④ ABCD。
60. (3) 泳裝所用的衣料，一般多採用 ① 棉 ② 麻 ③ 尼龍與彈性纖維 ④ 羊毛。

複選題：

61. (14) 設計上班服時，下列何者為是？ ① 以不易皺的素材為佳 ② 盡量使用螢光色彩 ③ 素材越貴越好 ④ 必須考量服裝之功能性。
62. (24) 短纖紗因紡紗工程時加撚方向之不同而有不同的撚向，可分為 ① Y 撚 ② Z 撚 ③ X 撚 ④ S 撚。
63. (23) 西式新娘婚紗禮服為什麼多以白色系列為主？ ① 受到中國文化的影響 ② 受到英國維多莉亞女王結婚時穿白色禮服的影響 ③ 白色是聖潔無暇、純真無邪的象徵 ④ 受到國家服裝制度的影響。
64. (234) 禮服常用的布料為 ① 斜紋棉 ② 軟緞 ③ 薄紗 ④ 雪紡。
65. (234) 制訂成衣裁剪計畫時，須注意哪些原則？ ① 為求速度，不需考慮節約用料 ② 符合生產順暢要求 ③ 符合生產器具和人員的條件 ④ 提高生產效率。
66. (24) 欲使肩膀寬度看起來更寬，應該選擇 ① 基本接袖 ② 肩章袖 ③ 拉克蘭袖 ④ 羊腿袖。
67. (24) 自有品牌之打版師，於打版新款服裝(樣品版)時，應注意哪些事項？ ① 確定尺碼放縮比例 ② 與設計師溝通服裝細節之比例與尺寸 ③ 布料是否會褪色 ④ 確定縫製方法及縫份。
68. (124) 有關纖維的敘述下列哪些為正確？ ① 羊毛具有氈合性，因為其具有毛鱗 ② 亞麻於天然纖維中為最粗的纖維 ③ 棉為天然纖維中最強韌的纖維 ④ 天然纖維中最長的纖維為蠶絲。
69. (134) 下列簡稱哪些正確？ ① 側頸點 SNP ② 腹圍線 BL ③ 袖襠 AH ④ 臀圍線 HL。
70. (23) 有關縫製衣服時，下列敘述哪些正確？ ① 布料縫合時，起皺的可能原因是上下線太鬆 ② 縫衣機梭殼螺絲過緊，車縫時容易發生下線斷掉 ③ 縫合線起皺的原因可能是上下線過緊 ④ 縫衣機梭殼螺絲過緊，車縫時容易發生上線斷掉。
71. (24) 1981 年英國黛安娜王妃之婚紗禮服，成為大眾爭相模仿的結婚禮服款式，關於此現象下列敘述何者正確？ ① 流行擴散理論之「向上流行」理論 ② 是一種「仿效」趨勢風潮 ③ 流行擴散理論之「水平流行」理論 ④ 流行擴散理論之「向下流行」理論。
72. (23) 下列差異化纖維中，何者是屬於形態結構的變化？ ① 阻燃纖維 ② 複合纖維 ③ 中空纖維 ④ 抗靜電纖維。
73. (124) 外銷成衣常見副料的英文翻譯，下列哪些正確？ ① Grommet：雞眼 ② Snap：四合釦 ③ washer：織帶 ④ Zipper：拉鍊。
74. (124) 一般針織圓領上衣(T-shirt)的車縫基本順序下列何者不正確？ ① 車下襠→接肩→上袖→合身→車袖口→上領 ② 上領→上袖→接肩→合身→車袖口→車下襠 ③ 接肩→上領→上袖→合身→車袖口→車下襠 ④ 接肩→上領→合身→上袖→車袖口→車下襠。

75. (134) 關於「肚兜」 ①有藏腹、掩胸、防風寒的作用 ②僅台灣閩籍婦女穿著 ③是古代之貼身內衣 ④根據中國歷史記載，它的起源最遠可追溯至公元前 818 年。
76. (12) 下列敘述何者正確？ ①美國以休閒運動及洗練的服裝風格為主 ②法國設計的特點是輪廓清晰，但具有裁剪的複雜程度，較貼合身體輪廓 ③東京設計特點呈現華麗風格 ④義大利的時尚風格著重於簡約。
77. (134) 女裝樣衣車縫師必須 ①擁有使用工業用縫紉機之技術 ②製訂公司專用尺寸及放縮比例 ③根據規格和樣品版製作樣衣 ④具備與打版師溝通的能力。
78. (134) 素材的後加工處理裡包含哪些種類？ ①漂洗 ②織布 ③印染 ④刺繡。
79. (14) 有關製圖符號，下列何者正確？ ①  對褶 ②  碎褶 ③  單向褶，由右折向左 ④  尖褶。
80. (13) 有關近代西洋服裝史之敘述下列何者正確？ ①1789 年法國大革命後，至第一次世界大戰 (1914~1918) 期間為西洋近代史 ②近代西洋服裝史之服裝型式無關東洋藝術 ③一般西洋近代史的服裝演變以法國為主軸 ④產業革命以後稱為近代史。