

115 年度 00903 泥水一面材鋪貼丙級技術士技能檢定學科測試試題

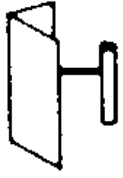
本試卷有選擇題 80 題，每題 1.25 分，皆為單選選擇題，測試時間為 100 分鐘，請在答案卡上作答，答錯不倒扣；未作答者，不予計分。

准考證號碼：

姓 名：


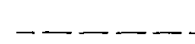
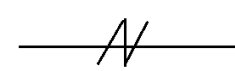
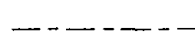
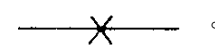
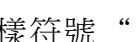
單選題：

1. (2) 下圖之工具是用來修飾 ①圓角 ②內角 ③一般牆面 ④外角。



2. (1) 外牆門窗框邊等開口部四周需 ①用塞水路等嵌縫料填實 ②用防水水泥漆塗刷 ③用 1：3 水泥砂漿填實 ④先用碎磚塊填再用水泥砂漿覆蓋。
3. (1) 對溫室氣體管制之「無悔政策」係指 ①減輕溫室氣體效應之同時，仍可獲致社會效益 ②持續研究溫室氣體對全球氣候變遷之科學證據 ③各類溫室氣體均有相同之減量邊際成本 ④全世界各國同時進行溫室氣體減量。
4. (3) 繪圖使用之比例，下列何者之精度最高？ ①1：10 ②1：20 ③1：1 ④1：5。
5. (3) 工廠或交通工具排放空氣污染物之檢查，下列何者錯誤？ ①依中央主管機關規定之方法使用儀器進行檢查 ②檢查人員以肉眼進行粒狀污染物不透光率之判定 ③檢查人員以嗅覺進行氨氣濃度之判定 ④檢查人員以嗅覺進行異味濃度之判定。
6. (3) 外牆基準灰誌之製作以何者優先？ ①稜線（牆角） ②牆面水平線 ③牆面垂直線 ④女兒牆頂。
7. (4) 下列敘述何者不正確？ ①面磚之主要原料為黏土與陶土 ②成型之磚胚須乾燥後才能上釉 ③全瓷質面磚較半瓷質面磚硬度高 ④釉裂即是磁磚斷裂。
8. (3) 面材鋪貼前，先以 1：3 水泥砂漿打底，再使用膠結材料來鋪貼面磚，這種工法叫做 ①軟貼法 ②預貼法 ③硬貼法 ④底貼法。
9. (2) 有關再生能源中的風力、太陽能的使用特性中，下列敘述何者錯誤？ ①設置成本較高 ②不易受天氣影響 ③間歇性能源，供應不穩定 ④需較大的土地面積。
10. (4) 小美是公司的業務經理，有一天巧遇國中同班的死黨小林，發現他是公司的下游廠商老闆。最近小美處理一件公司的招標案件，小林的公司在其中，私下約小美見面，請求她提供這次招標案的底標，並馬上要給予幾十萬元的前謝金，請問小美該怎麼辦？ ①朋友一場，給他一個比較接近底標的金額，反正又不是正確的，所以沒關係 ②退回錢，並告訴小林都是老朋友，一定會全力幫忙 ③收下錢，將錢拿出來給單位同事們分紅 ④應該堅決拒絕，並避免每次見面都與小林談論相關業務問題。
11. (4) 磚牆粉刷前 ①表面不必清理 ②鬆動之灰渣留在原處 ③表面保持乾燥 ④表面應濕潤。
12. (3) 圓周長為 ①  $2\pi D$  ②  $\pi D^2$  ③  $\pi D$  ④  $\pi D^3$ 。
13. (4) 裝修表之作用為 ①表示各室之傢俱位置 ②表示各室之坪數 ③表示各室之用途 ④表示各室之裝修材料。
14. (4) 平頂粉刷工作於底層完竣後，無論面積大小，應先做好其四角隅與中間凸出之標準餅（灰誌）以控制粉刷之 ①高度 ②寬度 ③光滑度 ④厚度。
15. (1) 面磚勾縫後即用海綿沾水，將表面殘存之水泥漿擦拭乾淨；如仍有不潔處，應以 ①稀鹽酸 ②濃鹽酸 ③清水 ④肥皂水 拭淨。
16. (4) 有關尺寸的換算，那一項敘述不正確？ ①1 英吋 = 2.54 公分 ②1 公寸 = 10 公分 ③1 坪 = 6 台尺 × 6 台尺 ④1 台尺 = 1 英呎。
17. (4) 標準餅的間隔係依何種因素決定？ ①操作者的手臂長度 ②水線長度 ③鏟刀長度 ④板尺長度。

18. (4) 有關著作權之概念，下列何者正確？ ①以傳達事實之新聞報導的語文著作，依然受著作權之保障 ②著作權要待向智慧財產權申請通過後才可主張 ③公務機關所函頒之公文，受我國著作權法的保護 ④國外學者之著作，可受我國著作權法的保護。
19. (3) 下列水泥砂漿之配比，何者防水效果較佳？ ①1：4 ②1：3 ③1：2 ④1：5。
20. (4) 為了節能與降低電費的需求，應該如何正確選用家電產品？ ①設備沒有壞，還是堪用，繼續用，不會增加支出 ②選用能效分級數字較高的產品，效率較高，5 級的比 1 級的電器產品更省電 ③選用高功率的產品效率較高 ④優先選用取得節能標章的產品。
21. (4) 屋頂突出物之符號為 ①BF ②ISTF ③RF ④PH。
22. (1) 3.6 寸磁磚勾縫宜用 ①白水泥 ②石粉 ③早強水泥 ④石灰。
23. (4) 台度線之磁磚收頭宜選用 ①雙斜 ②平口 ③三斜 ④單斜。
24. (4) 在施工位置無法繪入墨線時，多用 ①水平墨線 ②中心墨線 ③修正墨線 ④轉移墨線。
25. (2) 混凝土底層有蜂窩時，應 ①先塗水泥砂漿，再粉底層 ②預先處理蜂窩，再粉刷 ③以細石塞滿後，再粉刷 ④直接粉刷底層。
26. (3) 醫院、飯店或宿舍之熱水系統耗能大，要設置熱水系統時，應優先選用何種熱水系統較節能？ ①重油熱水系統 ②瓦斯熱水系統 ③熱泵熱水系統 ④電能熱水系統。
27. (2) 下列工程何者不屬於面材鋪貼範圍？ ①貼馬賽克 ②貼壁紙 ③貼磁磚 ④貼紅鋼磚。
28. (4) 建築圖中以  $\text{--- -- -- --}$  表示 ①中心線 ②剖面線 ③隱藏線 ④地界線。
29. (2) 定水平最準確的工具是 ①連通管 ②水準儀 ③平板儀 ④經緯儀。
30. (4) 吾人應使用下列哪項手工具進行牆面凹緣之粉刷工作？ ①板尺 ②勾縫鏟刀 ③外角鏟刀 ④內角鏟刀。
31. (2) 一坪等於 ①3 尺x3 尺 ②6 尺x6 尺 ③10 尺x10 尺 ④1 尺x1 尺。
32. (1) 下列那種規格之紙張面積最大？ ①B0 ②A0 ③A1 ④B1。
33. (3) 中華民國國家標準符號為 ①SIS ②ASTM ③CNS ④ACI。
34. (1) 面材鋪貼黏著劑之主要材料為 ①水泥 ②石膏 ③石灰 ④石粉。
35. (3) 房屋外部主要裝修一般標示於 ①透視圖 ②剖面圖 ③立面圖 ④平面圖。
36. (3) 粉刷水泥砂漿作業上，不必要的設備是 ①方鏟、拌合板 ②砂漿桶 ③混凝土震動棒 ④砂漿拌合機。
37. (3) 地坪粉刷底地清理不徹底時，會發生何種弊端？ ①浪費材料 ②表面起砂 ③產生脫層或開裂 ④高低不平。
38. (2) 下列何者是氣硬性灰漿？ ①黏土漿 ②石灰砂漿 ③紙泥漿 ④水泥砂漿。
39. (2) 粉刷底地混凝土有裂縫時，應 ①粉刷完成後，再補強裂縫處 ②預先處理裂縫，再粉刷 ③先塗水泥漿，再粉底層 ④直接粉刷底層。
40. (3) 有關吹風機使用注意事項，下列敘述何者錯誤？ ①請勿在潮濕的地方使用，以免觸電危險 ②應保持吹風機進、出風口之空氣流通，以免造成過熱 ③可用來作為烘乾棉被及床單等用途 ④應避免長時間使用，使用時應保持適當的距離。
41. (4) 下列有關牆面面材鋪貼，何者不正確？ ①馬賽克不適合用軟底貼法 ②軟底貼法不必加海菜粉 ③硬底法可加海菜粉 ④軟底貼法之防水性較硬底法為佳。
42. (3) 勞工在何種情況下，雇主得不經預告終止勞動契約？ ①確定被法院判刑 6 個月以內並諭知緩刑超過 1 年以上者 ②非連續曠工但 1 個月內累計 3 日者 ③不服指揮對雇主暴力相向者 ④經常遲到早退者。
43. (4) 煤灰是屬於那一種材料？ ①膠結體 ②硬化 ③早強 ④矽灰。
44. (3) 水灰比是指 ①砂與水的重量比 ②水泥與水的重量比 ③水與水泥的重量比 ④水與砂的重量比。
45. (1) 粉刷灰誌不能作為控制下列何項之標記？ ①長度 ②垂直度 ③厚度 ④平面度。
46. (1) 牆面磁磚鋪貼階段完成後即進行勾縫作業，此勾縫的順序必須遵行的原則為 ①由上而下 ②橫縫先刮再刮豎縫 ③由下而上 ④無方向限制。

47. (4) 檢舉人向有偵查權機關或政風機構檢舉貪污瀆職，必須於何時為之始可能給與獎金？ ①犯罪未起訴前 ②犯罪未遂前 ③預備犯罪前 ④犯罪未發覺前。
48. (1) 對於感電電流流過人體可能呈現的症狀，下列何者錯誤？ ①血壓降低、呼吸急促、精神亢奮 ②造成組織灼傷 ③強烈痙攣 ④痛覺。
49. (3) 手工拌合水泥砂漿時最好使用 ①刮尺 ②鏝刀 ③方鏟 ④圓錐。
50. (1) 水泥砂漿拌合後可使用之最長時間不得超過多少小時？ ①3.5 ②4.5 ③1.5 ④2.5。
51. (4) “” 左圖之工具是 ①菱形鏝刀 ②粉刷工具 ③磚鑿 ④桃形鏝刀。
52. (2) 浴廁地坪粉刷需以何者為依據？ ①牆或柱的中心線 ②洩水坡度線 ③浴缸側牆的底線 ④牆或柱的水平線。
53. (3) 一般有圖案之面材鋪貼工程，工料費用中以何者為多？ ①面材 ②水泥 ③人工 ④砂。
54. (1) 粉刷面之水平定線應使用 ①水準器 ②板尺 ③錘球規 ④標桿。
55. (1) 建築物尺度須註於尺度線 ①上方 ②中間 ③中間或下方 ④下方。
56. (4) 粉刷水泥砂漿前其打毛之目的，下列何者敘述是錯誤 ①水濕潤較可平均 ②可增加接著面積 ③可減少龜裂 ④塗刷增加困難。
57. (2) 下列何者不是主管機關設置水質監測站採樣的項目？ ①溶氧量 ②顏色 ③氫離子濃度指數 ④水溫。
58. (3) 水泥與水產生之水化作用是一種 ①溶解作用 ②物理作用 ③化學作用 ④力學作用。
59. (1) 標準篩孔是 ①正方形 ②圓形 ③長方形 ④梯形。
60. (4) 給水、排水及衛生設備圖之圖號為 ①L ②S ③M ④P。
61. (1) 外牆鋪貼磁磚時，下列何者敘述不正確？ ①宜不留縫 ②需留灰縫 ③宜由上向下鋪貼 ④應先定線。
62. (1)  $1\text{m}^3$  之 1:3 水泥砂漿，其水泥用量約為 ①9 ②5 ③11 ④7 包。
63. (2) 放樣時表示中心線基準線的墨線為 ①  ②  ③  ④  。
64. (1) 定線時最重要事項為控制 ①轉角處的稜線、垂直線、水平線 ②垂直線 ③轉角處的稜線 ④水平線。
65. (2) 工作場所具有揮發性化學有害物質進入人體，最常見途徑為下列何者？ ①口腔 ②呼吸道 ③眼睛 ④皮膚。
66. (3) 依職業安全衛生法規定，事業單位勞動場所發生死亡職業災害時，雇主應於多少小時內通報勞動檢查機構？ ①24 小時 ②48 小時 ③8 小時 ④12 小時。
67. (2) 泥水用之砂是屬於 ①水化物 ②無機物 ③碳化物 ④有機物。
68. (2) 下列何種檢驗非判別磁磚品質優劣之要件？ ①吸水率 ②顏色 ③抗壓強度 ④耐磨度。
69. (3) 故意侵害他人之營業秘密，法院因被害人之請求，最高得酌定損害額幾倍之賠償？ ①1 倍 ②4 倍 ③3 倍 ④2 倍。
70. (2) 下列何者不適合做為垂直定線之工具？ ①水準器 ②水準儀 ③錘球 ④經緯儀。
71. (4) 大面積之角度定線應使用 ①水準尺 ②錘球 ③水準儀 ④經緯儀。
72. (2) 放樣符號 “” 是表示 ①轉移線 ②中心線 ③錯誤線 ④正確線。
73. (1) 鋪貼馬賽克使用海菜粉量最少的部分是 ①地面 ②天花板 ③柱面 ④牆面。
74. (3) 下列何種部位粉刷作業時可不需要標準餅來控制平面？ ①地坪 ②樑 ③平頂 ④牆柱。
75. (1) 混凝土牆面的底地處理，下列何項工作為錯誤？ ①光滑的牆面應鏝塗純水泥漿 ②潤濕牆面 ③清除黏附的木板、鐵線 ④油污部分應洗淨。
76. (3) 水泥貯存於倉庫中應注意 ①防空 ②防風 ③防潮 ④防旱。
77. (4) 化學變化主要是指 ①味變 ②色變 ③量變 ④質變。
78. (2) 建築圖表示門的符號是 ①B ②D ③S ④W。
79. (2) 鍍鋅鋼管在建築圖中常以下列何者表示之？ ①PVCP ②GIP ③RCP ④CIP。

80. (4) 空氣污染源依排放特性分為固定污染源及移動污染源，下列何者屬於移動污染源？ ①煉鋼廠 ②焚化廠 ③石化廠 ④機車。



114 年度 00903 泥水—面材鋪貼丙級技術士技能檢定學科測試試題

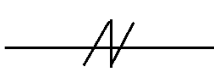
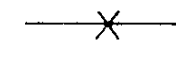

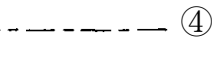
本試卷有選擇題 80 題，每題 1.25 分，皆為單選選擇題，測試時間為 100 分鐘，請在答案卡上作答，答錯不倒扣；未作答者，不予計分。


准考證號碼：

姓 名：

單選題：

1. (3) 水泥貯存不當，受潮結成硬塊的現象稱之為 ①假凝 ②初凝 ③風化 ④碳化。
2. (3) 3.6 寸磁磚勾縫宜用 ①石粉 ②石灰 ③白水泥 ④早強水泥。
3. (4) 一般桶裝瓦斯(液化石油氣)主要成分為丁烷與下列何種成分所組成？ ①甲烷 ②辛烷 ③乙烷 ④丙烷。
4. (2) 面磚脫落原因，何者錯誤？ ①施工面欠清潔 ②施工面過於粗糙 ③水泥或黏著劑成分不足 ④施工面於施工前未濕潤。
5. (2) 1/4"稱呼為 ①4 分 ②2 分 ③1 分 ④8 分。
6. (3) 曲尺是屬於 ①拌漿工具 ②切琢工具 ③定線工具 ④疊砌工具。
7. (2) 下列何者不是室內粉刷面層用之材料？ ①水泥 ②卵石 ③砂 ④石灰。
8. (1) 「酸雨」定義為雨水酸鹼值達多少以下時稱之？ ①5.0 ②6.0 ③8.0 ④7.0。
9. (1) 下列有關牆面面材鋪貼，何者不正確？ ①軟底貼法之防水性較硬底法為佳 ②硬底法可加海菜粉 ③軟底貼法不必加海菜粉 ④馬賽克不適合用軟底貼法。
10. (2) 所謂營業秘密，係指方法、技術、製程、配方、程式、設計或其他可用於生產、銷售或經營之資訊，但其保障所需符合的要件不包括下列何者？ ①所有人已採取合理之保密措施者 ②一般涉及該類資訊之人所知者 ③因其秘密性而具有潛在之經濟價值者 ④因其秘密性而具有實際之經濟價值者。
11. (2) 建築圖中，比例尺 1/3000(1：3000)者宜用以標示建築物之 ①平面圖 ②位置圖 ③剖面圖 ④立面圖。
12. (1) 1m<sup>3</sup>之 1：3 水泥砂漿，其水泥用量約為 ①9 ②7 ③11 ④5 包。
13. (1) 浴室底層粉刷，下列何者不正確？ ①浴盆底面應比浴室地面為低 ②防水粉刷須高出浴盆 ③可加防水劑 ④可加少許寒水石。
14. (1) 下列水泥砂漿之配比，何者防水效果較佳？ ①1：2 ②1：5 ③1：4 ④1：3。
15. (3) GL 是表示 ①水平線 ②粉刷線 ③地盤線 ④建築線。
16. (4) 天花板面線以下列何者表示？ ①PL ②HL ③VL ④CL。
17. (4) 下列何者「不是」全球暖化帶來的影響？ ①洪水 ②熱浪 ③旱災 ④地震。
18. (2) 下列何者不是屬於水泥砂漿拌合的器具？ ①方鏟 ②刮尺 ③拌合鐵板 ④量斗。
19. (4) 浴廁地坪施工順序 ①放樣→防水粉刷→打底層→貼地磚 ②防水粉刷→貼地磚→放樣→打底層 ③放樣→打底層→防水粉刷→貼地磚 ④防水粉刷→打底層→放樣→貼地磚。
20. (3) 水泥發生風化作用後通常呈 ①膠狀 ②粉狀 ③塊狀 ④條狀。
21. (3) 面磚勾縫後即用海綿沾水，將表面殘存之水泥漿擦拭乾淨；如仍有不潔處，應以 ①清水 ②濃鹽酸 ③稀鹽酸 ④肥皂水 拭淨。
22. (2) 俗稱寸八方塊磚之邊長約為幾cm？ ①10.8 ②5.5 ③8.8 ④1.8。
23. (1) 水在下列何種溫度下密度最小？ ①100℃以上 ②4℃ ③90℃ ④0℃。
24. (3) 打底補平工作，應使用下列哪項手工具？ ①粉光鏟刀 ②內角鏟刀 ③木鏟刀 ④外角鏟刀。
25. (2) 面材鋪貼黏著劑之主要添加劑為 ①石膏 ②海菜粉 ③石灰 ④石粉。
26. (3) 混凝土牆面粉刷水泥砂漿時，宜先塗一層 ①灰漿 ②海菜粉 ③水泥漿 ④石膏。
27. (4) 所有室內各種粉刷中，何者應先施工？ ①柱梁 ②地坪 ③牆面 ④平頂。

28. (3) 主管機關審查環境影響說明書或評估書，如認為已足以判斷未對環境有重大影響之虞，作成之審查結論可能為下列何者？ ①補充修正資料再審 ②認定不應開發 ③通過環境影響評估審查 ④應繼續進行第二階段環境影響評估。
29. (2) 底層粉刷用之水泥砂漿拌合時應考慮 ①配比 ②使用量、用水量、配比 ③使用量 ④用水量。
30. (4) 根據氣候變遷因應法，國家溫室氣體長期減量目標於中華民國幾年達成溫室氣體淨零排放？ ①129 ②149 ③119 ④139。
31. (3) 材料之含水重為 12kg，乾燥重為 10kg，其含水率為 ①1.2% ②10% ③20% ④12%。
32. (1) 粉刷打底之厚度以下列何者為宜？ ①0.9 cm ②2.5 cm ③3.5 cm ④2.0 cm。
33. (1) 「聖嬰現象」是指哪一區域的溫度異常升高？ ①東太平洋表層海水 ②東印度洋表層海水 ③西印度洋表層海水 ④西太平洋表層海水。
34. (4) 藍晒圖顯影是利用 ①二氧化碳 ②氫氣 ③氧氣 ④氨氣。
35. (3) 繪圖使用之比例，下列何者之精度最高？ ①1：10 ②1：20 ③1：1 ④1：5。
36. (2) 粉刷打底如無特別說明，一般使用 ①石灰 ②普通水泥 ③白水泥 ④早強水泥。
37. (2) 加強磚造之構造物可用何符號表示？ ①PC ②RB ③SRC ④RC。
38. (1) 吾人應使用下列哪項手工具進行牆面凹緣之粉刷工作？ ①內角鏟刀 ②外角鏟刀 ③勾縫鏟刀 ④板尺。
39. (2) 工程圖說若不相符時應 ①以平面圖為準 ②請示設計或監造單位 ③以結構圖為準 ④以施工詳圖為準。
40. (1) 依建築技術規則規定，地版面用水泥砂漿粉刷其重量估算 1 cm 厚不得小於 ①20kg/m<sup>2</sup> ②15kg/m<sup>2</sup> ③10kg/m<sup>2</sup> ④5kg/m<sup>2</sup>。
41. (4) 1/8" 換算為幾 mm？ ①2.54 ②6.6 ③12.5 ④3.175。
42. (1) 浴廁內若有天花板時於粉刷打底完成後，其鋪貼定線之方法何者正確？ ①貼至頂者，其線定至天花板處 ②貼至台度者，其線定至天花板處 ③貼至頂者，其線定至台度處 ④貼至頂者，其線定至上一層樓地板。
43. (1) 下列何項不是決定底層粉刷定線的因素？ ①底地的材質 ②飾縫的大小 ③開口的位置 ④面材尺寸。
44. (3) 下列那一項與面材鋪貼放樣較無關？ ①面積大小 ②標準餅 ③基地位置 ④磁磚規格。
45. (1) 一坪使用馬賽克 ①36 才 ②72 才 ③16 才 ④11 才。
46. (4) 1 吋也可表示 ①1/8" ②1' ③1/2" ④1"。
47. (2) 粉刷水泥砂漿作業上，不必要的設備是 ①砂漿拌合機 ②混凝土震動棒 ③砂漿桶 ④方鏟、拌合板。
48. (2) 牆面粉刷時，水泥砂漿會滑落，下列原因何者為誤？ ①水泥砂漿之水灰比太大 ②細骨材篩過 ③水泥砂漿太厚 ④牆面太濕。
49. (1) 放樣時表示中心線基準線的墨線為 ①  ②  ③  ④  。
50. (2) 在工地量測水泥及砂配合比之工具，規定需用 ①方鏟 ②量斗 ③圓鍬 ④畚箕。
51. (3) 事業招人承攬時，其承攬人就承攬部分負雇主之責任，原事業單位就職業災害補償部分之責任為何？ ①依工程性質決定責任 ②視職業災害原因判定是否補償 ③仍應與承攬人負連帶責任 ④依承攬契約決定責任。
52. (4) 建築圖表示門的符號是 ①S ②B ③W ④D。
53. (2) 1m<sup>3</sup> 的水重約為多少 kg？ ①10000 ②1000 ③10 ④100。
54. (1) 細懸浮微粒 (PM<sub>2.5</sub>) 除了來自於污染源直接排放外，亦可能經由下列哪一種反應產生？ ①光化學反應 ②厭氧作用 ③光合作用 ④酸鹼中和。
55. (1) CNS 表示 ①中華民國國家標準 ②中央標準局 ③正字標記 ④日本工業規格。
56. (3) 目前台灣地區的雨水略帶 ①中性 ②鹼性 ③酸性 ④鹽性。

57. (3) 目前電費單中，係以「度」為收費依據，請問下列何者為其單位？ ①kWh ②kW ③kWh ④kJ。
58. (3) 勞工不遵守安全衛生工作守則規定，屬於下列何者？ ①管理缺陷 ②不安全設備 ③不安全行為 ④不安全環境。
59. (2) 下列有關面材軟底貼法的敘述，何者為錯誤？ ①適用於底地平坦且無滲水顧慮的處所 ②須彈放樣墨線於底地再施貼 ③通常使用水泥砂漿施貼 ④不作底層粉刷，直接貼於底地上。
60. (1) 下列何者非屬職業安全衛生法規定之勞工法定義務？ ①實施自動檢查 ②參加安全衛生教育訓練 ③遵守安全衛生工作守則 ④定期接受健康檢查。
61. (2) 與公務機關有業務往來構成職務利害關係者，下列敘述何者正確？ ①高級茶葉低價售予有利害關係之承辦公務員，有價購行為就不算違反法規 ②將餽贈之財物請公務員父母代轉，該公務員亦已違反規定 ③機關公務員藉子女婚宴廣邀業務往來廠商之行為，並無不妥 ④與公務機關承辦人飲宴應酬為增進基本關係的必要方法。
62. (3) 下列何者為小口磚之規格？ ①23 cm×6 cm ②11 cm×11 cm ③11 cm×6 cm ④23 cm×11 cm。
63. (2) 粉刷面之水平定線應使用 ①板尺 ②水準器 ③錘球規 ④標桿。
64. (1) 磁磚裁切機之鋸片為 ①圓形 ②線狀 ③方形 ④帶形。
65. (3) “  ”左圖於平面圖中表示 ①雙開窗 ②雙拉窗 ③雙開門 ④雙拉門。
66. (2) 有關促進參與及預防貪腐的敘述，下列何者錯誤？ ①提高決策過程之透明度，並促進公眾在決策過程中發揮作用 ②我國非聯合國會員國，無須落實聯合國反貪腐公約規定 ③推動政府部門以外之個人及團體積極參與預防和打擊貪腐 ④對公職人員訂定執行公務之行為守則或標準。
67. (1) 定線時墨斗彈線步驟，下列哪一項先施作？ ①定點 ②彈線 ③註記 ④引線。
68. (3) 依 CNS 規定，下列那種線條在圖面上採用虛線繪製？ ①剖面線 ②註解線 ③隱蔽線 ④中心線。
69. (4) 放樣不能控制下列何者？ ①垂直線 ②水平線 ③轉角處的稜線 ④平滑度。
70. (3) 木門窗框裝釘線板應於 ①油漆以前 ②粉刷面層前 ③粉刷底層前 ④粉刷面層後。
71. (1) 受雇者因承辦業務而知悉營業秘密，在離職後對於該營業秘密的處理方式，下列敘述何者正確？ ①離職後仍不得洩漏該營業秘密 ②自離職日起 3 年後便不再負有保障營業秘密之責 ③僅能自用而不得販售獲取利益 ④聘雇關係解除後便不再負有保障營業秘密之責。
72. (2) 坡道地磚鋪設下列以何者為宜？ ①由中先上後下 ②由上而下 ③由中先下後上 ④由下而上。
73. (4) 量長距離時，下列何者量測誤差較小？ ①曲尺 ②折尺 ③布捲尺 ④鋼捲尺。
74. (3) 事業單位僱用勞工多少人以上者，應依勞動基準法規定訂立工作規則？ ①200 人 ②50 人 ③30 人 ④100 人。
75. (1) 拌合用水以下列何者為佳？ ①自來水 ②最近之水源 ③河水 ④海水。
76. (2) 下列何種檢驗非判別磁磚品質優劣之要件？ ①吸水率 ②顏色 ③抗壓強度 ④耐磨度。
77. (1) 洩水坡度 1/100 是指距離 10m 之兩點，高低應相差 ①10 cm ②1000 cm ③100 cm ④1 cm。
78. (1) 鋪貼馬賽克使用海菜粉量最少的部分是 ①地面 ②柱面 ③天花板 ④牆面。
79. (2) 作粉刷厚度標準餅，不須使用下列哪種工具？ ①水準器 ②曲尺 ③水線 ④錘球。
80. (2) 檢查牆面內角是否直角宜採用 ①六折尺 ②曲尺 ③量角器 ④游標卡尺。