

本試卷有選擇題 80 題，每題 1.25 分，皆為單選選擇題，測試時間為 100 分鐘，請在答案卡上作答，答錯不倒扣；未作答者，不予計分。

准考證號碼：

姓 名：

單選題：

1. (3) 打結機適用於①開口袋②開釦邊③打結於口袋兩端④車布邊。
2. (2) 通常所謂 A 型罩杯，其胸圍與乳下胸圍尺寸之差約為①17 公分②10 公分③20 公分④15 公分。
3. (3) C.F 表示①後中心線②腰圍線③前中心線④腕圍線。
4. (2) 下列有關省水標章的敘述何者正確？①省水標章是環保署為推動使用節水器材，特別研定以作為消費者辨識省水產品的一種標誌②省水標章能激勵廠商重視省水產品的研發與製造，進而達到推廣節水良性循環之目的③獲得省水標章的產品並無嚴格測試，所以對消費者並無一定的保障④省水標章除有用水設備外，亦可使用於冷氣或冰箱上。
5. (1) 麻織物的纖維是：①植物纖維②動物纖維③礦物纖維④化學纖維。
6. (3) 下列何者的含氣量最大？①棉②絲③羊毛④麻。
7. (2) 鎖釦眼用線長度是釦眼尺寸的約：①15 倍②25~30 倍③40~50 倍④35~40 倍。
8. (4) 雇主於臨時用電設備加裝漏電斷路器，可避免下列何種災害發生？①被撞②物體倒塌;崩塌③墜落④感電。
9. (1)  左圖表示①雙條裝飾記號②褶子倒向記號③暗扣位置記號④扣環位置記號。
0.6cm
10. (2) ①平衡②強調③統一④律動 乃是特殊力量著重於某一部份，使其達到特別醒目的作用。
11. (3) 一般燈芯絨布料裁剪長褲時①一片直放、一片倒放②使用橫布③同方向排直布④斜布，較省布。
12. (4) 假縫的正確縫法，應採用：①交叉縫②車縫③拷克縫④手縫。
13. (2) 以相同布料製成的外套與下裝可搭配成套的服裝稱為：①兩件裝(TWO-PIECE)②套裝(SUIT)③組合裝(ENSEMBLE)④連裙裝(ONE-PIECE)。
14. (4) 目前市面清潔劑均會強調「無磷」，是因為含磷的清潔劑使用後，若廢水排至河川或湖泊等水域會造成甚麼影響？①綠牡蠣②烏腳病③秘雕魚④優養化。
15. (1)  左圖是表示：①不能熨燙②低溫熨燙③高溫熨燙④中溫熨燙。
16. (1) 一般西裝上衣釦洞可用何種機器車縫？①鳳眼機②盲縫機③鎖鍊機④電子平車。
17. (1) 郊遊、旅行時穿的服裝稱為：①休閒服(LEISURE WEAR)②海灘裝(BEACH WEAR)③運動服(SPORT WEAR)④外出服(CITY WEAR)。
18. (3) 裙子及連裙裝的裡布，一般採用：①尼龍布②羽紗③縐綵④棉布 為佳。
19. (2) 下列色彩彩度最高的是：①酒紅②桃紅③棗紅④粉紅。
20. (2) 以皮草起家之義大利品牌①道奇加伯納(Dolce & Gabbana)②芬迪(Fendi)③拉克華(Christian Lacroix)④迪奧(Christain Dior)。
21. (3) 室內裝修業者承攬裝修工程，工程中所產生的廢棄物應該如何處理？①河岸邊掩埋②交給清潔隊垃圾車③委託合法清除機構清運④倒在偏遠山坡地。
22. (1) 為減少日照所增加空調負載，下列何種處理方式是錯誤的？①將窗戶或門開啟，讓屋內外空氣自然對流②屋頂加裝隔熱材、高反射率塗料或噴水③窗戶裝設窗簾或貼隔熱紙④於屋頂進行薄層綠化。
23. (1) 外銷美國的嬰兒服必須具有相當的：①防火性②防水性③美觀性④垂墜性。
24. (4) 當電力設備遭遇電源不足或輸配電設備受限制時，導致用戶暫停或減少用電的情形，常以下列何者名稱出現？①斷電②配電③停電④限電。
25. (2) 常以南義大利西西里島風情為標誌之時尚設計師為①亞曼尼(Armani)②道奇加伯納(Dolce & Gabbana)③迪奧(Christain Dior)④拉克華(Christian Lacroix)。
26. (1) 某公司員工因執行業務，擅自以重製之方法侵害他人之著作財產權，若被害人提起告訴，下列對於處

罰對象的敘述，何者正確？①該名員工及其雇主皆須受罰②僅處罰侵犯他人著作財產權之員工③員工只要在從事侵犯他人著作財產權之行為前請示雇主並獲同意，便可以不受處罰④僅處罰雇用該名員工的公司。

27. (1) 一般晚上參加朋友的婚禮應穿著：①社交服②制服③運動服④牛仔裝 較為適宜。

28. (4) 下列何者為理想的 T 恤(T-SHIRTS)用料？①蠶絲②醋酸纖維③嫚縈④棉。

29. (2) 裁製圓裙除了裙長尺寸外還需有①腰長②腰圍③膝圍④臀圍。

30. (3) 下列何者非屬電氣之絕緣材料？①空氣②氟氯烷③漂白水④絕緣油。

31. (2) 穿上長褲時，如下圖脇邊線、後中心線皆歪曲而褲管上方產生斜縐紋之原因為：①脇邊線過寬②腿部粗者③股下線歪曲④臀部高翹。



32. (2) 長布條抽細褶的裝飾邊稱為：①垂褶(DRAP)②荷葉邊(FRILL)③緞邊(PIPING)④裝飾壓褶(TUCK)。

33. (1) 向日葵形或雨傘的造型是屬於：①放射型②反覆型③階段型④流線型。

34. (4) 錐子可使用於①切線②製圖工具③畫布④推布。

35. (4) 車縫薄料時，宜採用幾號車縫針？①11 號②16 號③14 號④9 號。

36. (1) 下列何種材質不可使用乾洗？①橡膠②天絲棉③羊毛④聚酯 纖維。

37. (4) 遇水纖維變強韌為：①毛②嫚縈③蠶絲④麻 的特性。

38. (2) 以兩種不同粗細、顏色、光澤之單紗撚合而成之紗稱為①節斑紗②螺旋紗③疙瘩紗④圈圈紗。

39. (2) 為了節能與降低電費的需求，家電產品的正確選用應該如何？①選用高功率的產品效率較高②優先選用取得節能標章的產品③設備沒有壞，還是堪用，繼續用，不會增加支出④選用能效分級數字較高的產品，效率較高，5 級的比 1 級的電器產品更省電。

40. (2) 服裝上所加的寬份，主要是根據何者而定？①材料②設計、材料、體型③體型④設計。

41. (1) 不易起皺的衣料是因其所含纖維①彈性好②比重大③較細長④透氣性低 的緣故。

42. (3) 下列纖維何者具有熱可塑性？①麻②棉③尼龍④羊毛。

43. (3) 民眾焚香燒紙錢常會產生哪些空氣污染物增加罹癌的機率：A. 苯、B. 細懸浮微粒(PM_{2.5})、C. 二氧化碳(CO₂)、D. 甲烷(CH₄)？①BC②AC③AB④CD。

44. (4) 燃燒嫚縈的材料會和下列何者相似？①聚酯纖維②毛③蠶絲④麻。

45. (3) 參加傍晚至晚餐前之宴會，以社交氣氛為主的服裝稱為：①晚禮服(EVENING DRESS)②晚餐裝(DINNER DRESS)③雞尾酒會裝(COCKTAIL DRESS)④宴會裝(PARTY DRESS)。

46. (3) 色彩鮮艷的傘形連裙裝(MOMO)最適合於何種場合穿著？①上班②運動③海灘④工作。

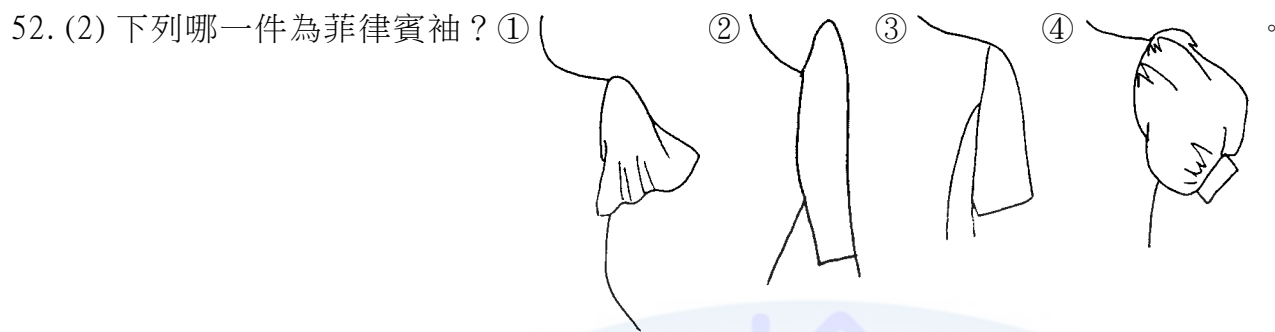
47. (4) 選擇衣料時，除以視覺觀察外，還可用下列何者判斷？①味覺②嗅覺③不必再判斷④觸覺。

48. (3) 假縫前之燙縮、燙拔，其主要目的是①防止變化②改變布紋③配合人體曲線④改變尺寸。

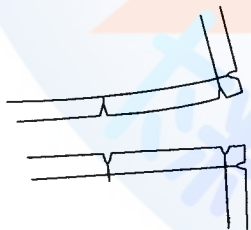
49. (3) 裁剪工程中一般用來裁剪小裁片及較準確之裁片的裁剪機是①直之式裁剪機②圓形裁剪機③帶式裁剪機④切布機。

50. (4) 裁剪時，應①直接排上紙型②對齊裁剪邊③對齊布邊④先查看布料有無瑕疵。


51. (4) ①灰②藍③黑④白 色是神聖、清潔、明快之象徵。



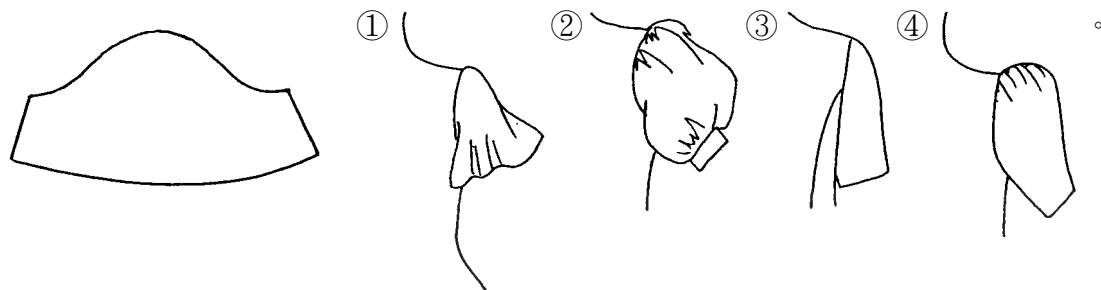
53. (3) 於腰線褶疊，其褶子往下自然散開的活褶裙，稱為：①細褶裙(GATHER SKIRT)②波浪裙(FLAIR SKIRT)③軟式活褶裙(SOFT-PLEAT SKIRT)④挺式活褶裙(PLEAT SKIRT)。
54. (2) 拉布長度是根據：①衣服的長度②馬克圖的長度③布料的長度④衣服的寬度 來決定。
55. (1) 在工業製衣使用上，加上縫份的紙型稱為①工業紙型②第一紙型③原型紙型④放縮紙型。
56. (3) 公司經理因個人財務一時周轉困難而挪用公司資金，事後感到良心不安又自行補回所挪用之金錢，是否構成犯罪？①已返還即不構成任何犯罪②構成詐欺罪③構成刑法之業務侵占罪④構成竊盜罪。
57. (3) 棉布染色，一般採用：①分散性②鹽基性③直接性染料④酸性。
58. (1) 下列何種質料最厚？①牛仔布②白漂布③麻紗④麻綢。
59. (1) 對於染有油污之破布、紙屑等應如何處置？①應蓋藏於不燃性之容器內②與一般廢棄物一起處置③應分類置於回收桶內④無特別規定，以方便丟棄即可。
60. (3) 上袖子後，前袖山附近產生斜皺紋是因：①袖山過高②袖山過低③袖山點太靠前④袖中心點太靠後。
61. (3) 穿著窄裙時，腰圍與臀圍尺寸差距大的體型，宜以①左右各 1 褶較佳②不打褶③左右各 2 褶較佳④無關緊要。
62. (4) 接縫線起縐的原因之一是：①線太細②針太細③上下線太鬆④上下線太緊。
63. (4) 使用熨斗為達熨燙效果，應①低溫安全②溫度愈高愈好③有燙布就可以④配合質料調節溫度。
64. (4) 肘線之代號為：①H.L.②K.L.③W.L.④E.L.。
65. (1) 最直接的服飾流行傳播是：①服裝發表會②電視報導③報紙廣告④雜誌介紹。
66. (1) T/C 料是：①棉與聚酯(POLYESTER)②棉與毛③棉與絲④特多龍(TETORON)與嫫縈(RAYON) 的混紡織物。
67. (2) 整燙毛料時最理想的方法是：①磨燙②蒸氣燙③拖燙④乾燙。
68. (2) 下圖是表示①正斜布紋②縫份合印記號③布紋方向④活褶倒向記號。



69. (2) 從事輕質屋頂修繕作業時，應有何種作業主管在場執行主管業務？①擋土支撐組配②屋頂③施工架組配④模板支撐。
70. (2) 製作紙版時以成衣方法製作不同尺寸之紙型稱為①描圖②放縮③印圖④畫面。
71. (4) 拉布時，兩頭留距不可超過①3 英吋②4 英吋③2 英吋④1 英吋。
72. (3) ①調和②統一③平衡④律動 即是靜止、恬靜或安逸的狀態。
73. (4) 早餐應該在何時完成，下列何者正確？①等工作告一段落，而非休息時間的時候，到休息室完成用餐②慢慢吃有益健康，應該要一面工作一面吃，節省時間③上班打卡之後，盡量在 20 分鐘內完成④應該於上班前完成，上班後不應該用餐，以免影響工作。
74. (4) 繪製下列裙型時，哪一件在臀圍的寬鬆份最多？



75. (1) 下圖是下列哪一件袖子的平面圖？



76. (1) 再生能源一般是指可永續利用之能源，主要包括哪些：A.化石燃料 B.風力 C.太陽能 D.水力？①BCD ②ABD③ACD④ABCD。
77. (3) 一般窄裙(TIGHT SKIRT)在臀圍的基本總寬鬆份約為：①8 公分②1 公分③4 公分④10 公分。
78. (1) 按照現行法律規定，侵害他人營業秘密，其法律責任為：①刑事責任與民事損害賠償責任皆須負擔②僅需負民事損害賠償責任③僅需負刑事責任④刑事責任與民事損害賠償責任皆不須負擔。
79. (1) 看完設計圖之後，最先做的紙型稱為①樣本第一紙型②工業紙型③樣本第二紙型④樣本第三紙型。
80. (2) 在造形視覺設計上，古希臘人認為最美的比例是：①階段比②黃金比③平衡比④等分比。