

112 年度 04800 女裝乙級技術士技能檢定學科測試試題

本試卷有選擇題 80 題【單選選擇題 60 題，每題 1 分；複選選擇題 20 題，每題 2 分】，測試時間為 100 分鐘，請在答案卡上作答，答錯不倒扣；未作答者，不予計分。






准考證號碼：

姓 名：

單選題：





1. (3) ①布料 ②縫線 ③毛皮 ④不織布 是由非纖維原料所作成。
2. (2) 亞克力纖維的化學名稱是 ①聚乙烯醇(Polyvinyl Alcohol) ②聚丙烯腈(Polyacrylonitrile) ③聚酯(Polyester) ④聚醯胺(Polyamide)。
3. (3) 毛喬其紗(Wool Geogrette)是屬於 ①弱撚紗 ②單股紗織物 ③強撚紗 ④普通撚紗。
4. (1) 哪一種纖維是親油性纖維？ ①尼龍 ②羊毛纖維 ③嫫縐 ④絲。
5. (2) 亞克力與羊毛纖維的混紡多以下列何種簡寫稱之 ①Y/W ②A/W ③T/W ④C/W。
6. (3) 在工業製衣使用上，加上縫份的紙型稱為 ①放縮紙型 ②原型紙型 ③工業紙型 ④第一紙型。
7. (4) 製作紙版時，以成衣方法製作不同尺寸之紙型稱為 ①描圖 ②印圖 ③畫面 ④放縮。
8. (3) 依廢棄物清理法之規定，隨地吐檳榔汁、檳榔渣者，應接受幾小時之戒檳班講習？ ①8 小時 ②6 小時 ③4 小時 ④2 小時。
9. (4) F.N.P.(Front Neck Point)英文指的是 ①肩端點 ②頸後中心點 ③腕圍 ④頸前中心點。
10. (1) 下列關於個人資料保護法的敘述，下列敘述何者錯誤？ ①公務機關依法執行公權力，不受個人資料保護法規範 ②我的病歷資料雖然由醫生所撰寫，但也屬於是我的個人資料範圍 ③不管是否使用電腦處理的個人資料，都受個人資料保護法保護 ④身分證字號、婚姻、指紋都是個人資料。
11. (2) 毛巾布、平面絨、燈心絨等，是屬於 ①緞紋布 ②毛圈與起毛布 ③斜紋布 ④針織布。
12. (4) 如果馬桶有不正常的漏水問題，下列何者處理方式是錯誤的？ ①立刻檢查馬桶水箱零件有無鬆脫，並確認有無漏水 ②滴幾滴食用色素到水箱裡，檢查有無有色水流進馬桶，代表可能有漏水 ③通知水電行或檢修人員來檢修，徹底根絕漏水問題 ④因為馬桶還能正常使用，所以不用著急，等到不能用時再報修即可。
13. (2) 公司發給每人一台平板電腦提供業務上使用，但是發現根本很少在使用，為了讓它有效的利用，所以將它拿回家給親人使用，這樣的行為是 ①可以的，這樣就不用花錢買 ②不可以的，因為這是公司的財產，不能私用 ③可以的，反正放在那裡不用它，也是浪費資源 ④不可以的，因為使用年限未到，如果年限到報廢了，便可以拿回家。
14. (4) 下列何種材質可壓出永久性的褶子 ①嫫縐 ②醋酸 ③羊毛 ④聚酯 纖維。
15. (2) 車縫伸縮料時，常有上層布拉伸，下層布起皺的現象其原因是 ①車線性質不對 ②壓腳過緊 ③下線太鬆 ④上線太緊。
16. (3) 下列何者不是蚊蟲會傳染的疾病？ ①瘧疾 ②日本腦炎 ③痢疾 ④登革熱。
17. (2) 西裝下片領，其面布與貼邊的裁線關係為 ①面布與貼邊同 ②面布比貼邊小 ③面布比貼邊大 ④無特別規定。
18. (1) 矮胖體型者較適合穿 ①公主線連裙裝 ②直形線條套裝 ③低腰式連裙裝 ④傘型裝。
19. (3) 車縫棉質料時宜適用 ①特多龍車線 ②尼龍車線 ③棉質車線 ④毛車線。
20. (2) 流行是 ①全體一致的傾向 ②多數人的心理傾向 ③個人的反應 ④少數人的喜好 所造成的。
21. (1) 1990 年代以「內衣外穿」帶動服裝流行風潮之法國設計師為 ①高提耶(Jean Paul Gaultier) ②迪奧(Christain Dior) ③凱薩林赫姆雷特(Katharine Hamnett) ④香奈爾(Chanel)。
22. (3) 為保持中央空調主機效率，每隔多久時間應請維護廠商或保養人員檢視中央空調主機？ ①2 年 ②1 年 ③半年 ④1.5 年。
23. (4) 成衣不是為個人製作，而是為 ①特殊體型人製作 ②三個人製作 ③二個人製作 ④不特定多數消費族群製作。
24. (2) 縫合線起縐可能是因 ①針太細 ②上下線張力過大 ③線太細 ④線太鬆。

25. (1) 1981 年推出緊身「夢露式」女性牛仔褲，以性感、年輕、富有冒險精神而名噪一時之服裝品牌為 ①GUESS ②CK ③LV ④CD。
26. (2) 一般鳳眼釦孔適用於： ①連裙裝 ②外套 ③禮服 ④襯衫。
27. (4) 以破斜紋織出之西裝料常稱之為 ①府綢 ②嗶嘰布 ③提花布 ④人字布。
28. (1) 常做為不織布紙巾材質的纖維為 ①嫻縈 ②尼龍 ③亞克力纖維 ④聚酯。
29. (2) 一般軋別丁表面的斜紋呈現的角度大約是 ①45 度 ②60 度 ③90 度 ④30 度。
30. (2) 熨燙時，產生熨斗角的痕跡其原因之一為： ①燙墊太硬 ②燙墊太軟 ③燙墊太薄 ④燙墊太厚。
31. (1) 通常所謂 A 型罩杯，其胸圍與乳下胸圍尺寸之差約為 ①10 公分 ②20 公分 ③15 公分 ④17 公分。
32. (4) 依勞工職業災害保險及保護法規定，勞工職業災害保險以下列何者為保險人，辦理保險業務？ ①勞動部職業安全衛生署 ②財團法人職業災害預防及重建中心 ③勞動部勞動基金運用局 ④勞動部勞工保險局。
33. (4) 毛衣是屬於 ①非織物 ②梭織品 ③薄膜布 ④針織品。
34. (2) 若以淺黃、淺綠、淺紫、淺藍等色彩的組合，會展現柔和印象，此配色方法稱為： ①類似色調配色 ②同色調配色 ③類似色相配色 ④同色相配色。
35. (1) 下列何種開發行為若對環境有不良影響之虞者，應實施環境影響評估：A.開發科學園區；B.新建捷運工程；C.採礦。 ①ABC ②AB ③BC ④AC。
36. (3) B.P.長是指量前身 ①F.N.P. ②S.P. ③S.N.P. ④H.P. 至 B.P 點的尺寸。
37. (1) 下列何種材質不可使用乾洗？ ①橡膠纖維 ②天絲纖維 ③羊毛纖維 ④聚酯纖維。
38. (3) 紗線長 9000m，重 5g，稱為 ①5Tex ②5's ③5D ④5Lea。
39. (3) 緞子、絲絨、織錦緞等是屬於 ①粗獷感 ②輕柔感 ③華麗感 ④涼爽感 的布料。
40. (1) 下列何者可做為電氣線路過電流保護之用？ ①熔絲斷路器 ②變壓器 ③電阻器 ④避雷器。
41. (2) 在五金行買來的強力膠中，主要有下列哪一種會對人體產生危害的化學物質？ ①甲醛 ②甲苯 ③乙醛 ④乙苯。
42. (1) 照明控制可以達到節能與省電費的好處，下列何種方法最適合一般住宅社區兼顧節能、經濟性與實際照明需求？ ①走廊與地下停車場選用紅外線感應控制電燈 ②晚上關閉所有公共區域的照明 ③全面調低照明需求 ④加裝 DALI 全自動控制系統。
43. (2) 蓮蓬頭出水量過大時，下列何者無法達到省水？ ①洗澡時間盡量縮短，塗抹肥皂時要把蓮蓬頭關起來 ②淋浴時水量開大，無需改變使用方法 ③換裝有省水標章的低流量(5~10L/min)蓮蓬頭 ④調整熱水器水量到適中位置。
44. (2) 訪問服(AFTERNOON DRESS) ①外出服 ②晝間之訪問，或參加正式場合穿著的小禮服 ③上班服 ④於教會婚禮時的伴娘之禮服。
45. (2) 某離職同事請求在職員工將離職前所製作之某份文件傳送給他，請問下列回應方式何者正確？ ①若其目的僅為保留檔案備份，便可以傳送文件 ②可能構成對於營業秘密之侵害，應予拒絕並請他直接向公司提出請求 ③視彼此交情決定是否傳送文件 ④由於該項文件係由該離職員工製作，因此可以傳送文件。
46. (4) 某規範明定地政機關進用女性測量助理名額，不得超過該機關測量助理名額總數二分之一，根據消除對婦女一切形式歧視公約(CEDAW)，下列何者正確？ ①此限制是為確保機關業務順暢推動，並未歧視女性 ②此項二分之一規定是為促進男女比例平衡 ③土地測量經常在戶外工作，基於保護女性所作的限制，不屬性別歧視 ④限制女性測量助理人數比例，屬於直接歧視。
47. (4) 佳績布 Jersey 是 ①緯編雙反面針織物 ②緯編羅紋 ③經編平紋 ④緯編平紋。
48. (2) 合成纖維之裁剪，應以 ①最慢速度裁刀裁剪 ②慢速度裁刀裁剪 ③高速度裁刀裁剪 ④極高速度裁刀裁剪，才能保有良好裁剪品質。
49. (2) 表面織紋清楚且有光澤的毛料是？ ①毛氈 ②梳毛呢 ③蘇格蘭呢 ④紡毛呢。
50. (2) 打結機適用於 ①開釦邊 ②打結於口袋兩端 ③車布邊 ④開口袋。
51. (1) 可防止微生物劣化與惡臭，可應用於鞋熱或服裝上者，為 ①抗菌防臭纖維 ②抗紫外線纖維 ③中空纖維 ④遠紅外線纖維。

52. (1) 下列何者不屬於職場暴力？ ①家庭暴力 ②肢體暴力 ③語言暴力 ④性騷擾。
53. (3) S.P 加工稱為 ①防繻加工 ②防水加工 ③防污加工 ④永久定型。
54. (4) 下列織物何者組織最簡單，且交錯點最多？ ①斜紋 ②緞紋 ③羅紋 ④平紋。
55. (4) 下列何種織物適宜做冬季上裝 ①塔芙塔(Taffeta) ②山東綢 ③牛津布 ④粗毛呢(Tweed)。
56. (2) 羊毛料的適當整燙溫度為 ①攝氏 200-240 度 ②攝氏 120-160 度 ③攝氏 160-200 度 ④攝氏 90-120 度。
57. (2) 香奈兒套裝(Chanel Suit)的特徵 ①夾克式套裝 ②無領外套式套裝與裙子組合 ③具有荷葉形裝飾的套裝 ④西裝式套裝。
58. (3) 依勞動基準法規定，主管機關或檢查機構於接獲勞工申訴事業單位違反本法及其他勞工法令規定後，應為必要之調查，並於幾日內將處理情形，以書面通知勞工？ ①20 ②14 ③60 ④30。
59. (4) 量身時，被量者姿勢必須自然站立在鏡前，量者應站在其 ①正後方 ②正前方 ③看個人習慣而定 ④左側或右側。
60. (2) 一般採條紋做西裝領時，表領布紋應採那一種方法 ①  ②  ③  ④ 
- 

複選題：

61. (13) 對白色婚紗禮服的詮釋，下列何者為是？ ①代表一個女人身份的改變 ②代表政治立場 ③社會大眾對新娘表徵的認知 ④與時代美感無關。
62. (234) 女裝樣衣車縫師必須 ①製訂公司專用尺寸及放縮比例 ②具備與打版師溝通的能力 ③擁有使用工業用縫紉機之技術 ④根據規格和樣品版製作樣衣。
63. (123) 服裝設計師應具備的素養為何？ ①了解素材特性與運用技巧 ②對色彩的敏銳度 ③服裝畫的技能 ④味覺敏銳度高。
64. (12) 下列何者錯誤？ ①  漂白 ②  乾燥 ③  乾洗 ④  水洗。
65. (14) 1981 年英國黛安娜王妃之婚紗禮服，成為大眾爭相模仿的結婚禮服款式，關於此現象下列敘述何者正確？ ①流行擴散理論之「向下流行」理論 ②流行擴散理論之「向上流行」理論 ③流行擴散理論之「水平流行」理論 ④是一種「仿效」趨勢風潮。
66. (13) 染料與纖維的結合，其結合能較小者屬物理性結合，下列鍵結中，何者為物理性結合？ ①凡得瓦爾力 ②離子鍵 ③氫鍵 ④共價鍵。
67. (24) 縫製時有關車縫線使用的敘述，下列哪些為正確？ ①捲底線應以十分滿為最適宜 ②捲底線以八分滿為佳 ③線的股數愈多，強力減弱 ④線的股數愈多，強力愈高。
68. (13) 在下列織物中，何者不適合用含有氯的漂白劑處理？ ①蠶絲 ②棉 ③羊毛 ④麻。
69. (12) 針織布的滾邊布紋方向為達省布效率，下列何者較不適合 ①任意 ②斜紋 ③直紋 ④橫紋。
70. (134) 流行風潮相關訊息，何者正確？ ①高提耶(Jean Paul Gaultier)被巴黎時裝界喻為「頑童」設計師 ②亞曼尼(Armani)被巴黎時裝界喻為「頑童」設計師 ③1990 年代高提耶(Jean Paul Gaultier)以「內衣外穿」帶動流行風潮 ④1980 年代帶動黑色旋風之三位設計師為三宅一生、川久保玲、山本耀司。
71. (123) 關於裁剪工程的敘述，下列何者正確 ①一般直刀裁剪機的裁刀長度為 13~33cm ②一般最大裁剪厚度為裁刀長度減 4cm ③一般在布層頭尾各加留 2cm ④只有直刀裁剪機。
72. (124) 少女或淑女裝之尺碼的標示方式通常以 ①台灣用 S(Small)、M(Medium)、L(Large) ②歐洲用 38.40.42.44 號 ③日本用 1.3.5 號 ④美國用 2.4.6.8 號。
73. (124) Polo 衫領針織上衣其領圍的縫份處理，以何者為佳？ ①車織帶 ②車本布滾條 ③燒邊 ④車後領貼。
74. (234) 一般針織布圓領衫，領口滾邊寬度以多少為宜？ ①3 英吋 ②1/4 英吋 ③1/2 英吋 ④3/8 英吋。

75. (134) 有機棉布料(Organic Cotton)屬綠色環保纖維，在栽培過程中不可使用 ①化學肥料 ②有機肥料 ③殺蟲劑 ④農藥。
76. (123) 有關洗標符號，下列何者正確？①  以手洗滌 ②  可用機器水洗，最高水溫不超過攝氏四十度，但須中速洗滌並縮短清洗時間 ③  可用機器水洗，最高水溫不超過攝氏九十度 ④  可水洗。
77. (134) 下列關於斜紋之敘述何者正確？①馬德林·薇歐內(Madeleine Vionnet)為斜布裁剪之代表設計師 ②具有硬挺質感 ③具有彈性與垂墜質感 ④與布邊呈 45 度角。
78. (24) 下列何者為具有圈狀效果的新奇花式紗？①螺旋紗(Spiral yarn) ②圈圈紗(Loop yarn) ③結子紗(Knap yarn) ④節斑紗(Ratine yarn)。
79. (234) 色彩的三屬性包括 ①色料 ②彩度 ③明度 ④色相。
80. (234) 有關纖維紗與染色敘述，下列哪些為正確？①動物性纖維蠶絲與羊毛，一般採用硫化性染料 ②動物性纖維蠶絲與羊毛，一般採用酸性染料 ③紗細度的計算公制單位 Nm，「1 支」表示每 1000 公尺長重為 1 公斤 ④紗細度的計算，英制單位 Ne，「1 支」表示其每磅重 840 碼。